



موضوع:

تاریخ:

نام و نام خانوادگی:

هدف:

۱- رضا ۱۵' قبل از ساعت ۷ از خواب بیدار شد و بعد از ۲۵ دقیقه از خانه خارج شد. او بعد از ۳۰' به محل کار خود رسید و در ساعت ۳۰ دقیقه مانده به ساعت ۱۹ به خانه بازگشت. اگر زمان رفت و زمان برگشت او برابر باشد؛ به سؤالات زیر پاسخ دهید:

- او چه ساعتی از خواب بیدار می شود؟

- چه ساعتی به محل کار خود می رسد؟

- او چند ساعت در محل کارش است؟

۱۰- به سؤالات زیر پاسخ دهید.

الف) از ساعت ۸:۱۰' تا ساعت ۲۰:۴۰' چند ساعت و چند دقیقه است؟

ب) از ساعت ۲۰:۴۰' تا ساعت ۸:۱۰' چند ساعت و چند دقیقه است؟

ج) مجموع زمان های به دست آمده در قسمت های الف ، ب چند ساعت می شود؟

۱- یک راننده برای این که رکورد جدیدی ثبت کند باید کمتر از ۳۵" ۵۹' ۱ مسافت مورد نظر را

طی کند، اگر او از ساعت ۱۷" ۱۷' ۰۵ تا ساعت ۱۵" ۳' ۱۹

رانندگی کند، آیا او موفق به ثبت رکورد جدید می شود؟





موضوع:

تاریخ:

نام و نام خانوادگی:

هدف:

- هر کدام از اعداد زیر چه زمانی را نشان می دهند؟


$2 \frac{35}{60}$ (ساعت و دقیقه) :.....

$4 \frac{19}{60}$ (ساعت و دقیقه) :.....

$8 \frac{15}{3600}$ (ساعت و دقیقه) :.....

$2 \frac{6}{540}$ (ساعت و دقیقه) :.....

- هر کدام از زمان های زیر به طور تقریبی چه زمانی را نشان می دهد؟



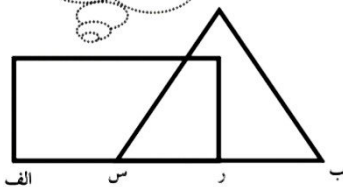
۲۳ ۴۸' ۱۹"

پانزده و سی و شش ثانیه

۳۵ دقیقه مانده به ساعت ۰۰

- در هر یک از شکل های زیر طول خط (الف ب) چند سانتی متر است؟


نقطه ی (ر) در وسط (س ب) و نقطه ی (س) وسط الف، ر می باشد.



(الف ب) دو برابر (ب د) مثلث (الف ه ج) برابر با مثلث (ب د ط) می باشد



دو مثلث برابرند (ب س)، یک سوم (ط ب) است.



Blank area for student response.

