



ریاضی
تمرین

تاریخ

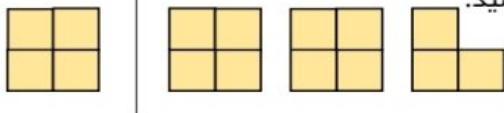
نام و نام خانوادگی

هدف:

۱- عددهای زیر را با رقم بنویسید.

بیست و سه میلیون و چهارصد و نه هزار و پانصد و بیست و چهارده و سه دهم

۲- با توجه به واحد داده شده، عدد مخلوط مربوط به شکل زیر را بنویسید.




۳- در جاهای خالی عدد مناسب بنویسید.

$$\frac{4}{7} = \frac{12}{\quad}$$

$$\frac{10}{24} = \frac{\quad}{12}$$

۹۰ دقیقه یعنی ساعت و دقیقه

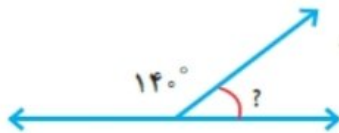
۴- $\frac{2}{3}$ شکل رو به رو را رنگ کنید.



۵- روی محور زیر، عددی را که با پیکان مشخص شده است، به صورت عدد مخلوط و عدد اعشاری بنویسید.



۶- اندازه‌ی زاویه‌ی مورد نظر را به دست آورید.



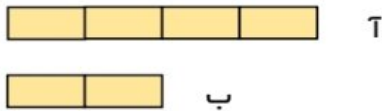
۷- در جاهای خالی علامت $<=>$ بگذارید.

$$\frac{1}{2} \bigcirc \frac{4}{6}$$

$$\frac{4}{5} \bigcirc \frac{3}{12}$$

$$20345 \bigcirc 30245$$

۸- با توجه به شکل‌ها، به سوال‌های زیر پاسخ دهید.



طول نوار (A) چند برابر نوار (B) است؟

طول نوار (B) چه کسری از نوار (A) است؟

بازخورد:

Blank lines for student feedback.



موضوع: ریاضی

تاریخ:

نام و نام خانوادگی:

هدف: تمرین

۹- حاصل تفریق زیر را به کمک محور انجام دهید.



$$\frac{3}{1} - \frac{2}{4} =$$

۱۰- حاصل ضربهای زیر را به دست آورید.

$$\begin{array}{r} 374 \\ \times 12 \\ \hline \end{array}$$

$$\begin{array}{r} 500 \\ \times 240 \\ \hline \end{array}$$

$$6 \times \frac{5}{45} =$$

۱۱- تقسیمهای زیر را انجام دهید.

$$54 \overline{) 7}$$

$$485 \overline{) 22}$$

۱۲- می‌خواهیم ۲ بسته‌ی ۱۲ تایی مداد را بین ۳ نفر تقسیم کنیم. به هر نفر چند مداد می‌رسد؟

بازخورد:

