




موضوع:

تاریخ

نام و نام خانوادگی

هدف:

۱- با توجه به واحد مشخص شده ، عدد مخلوط مربوط به شکل را بنویسید ؛

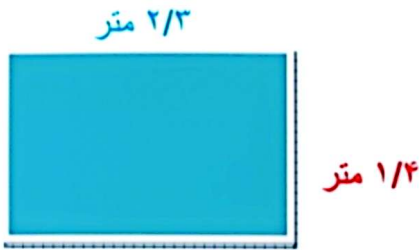


۲- کسر را به عدد اعشاری و عدد اعشاری را به کسر تبدیل کنید ؛

الف) $\frac{3}{5} =$

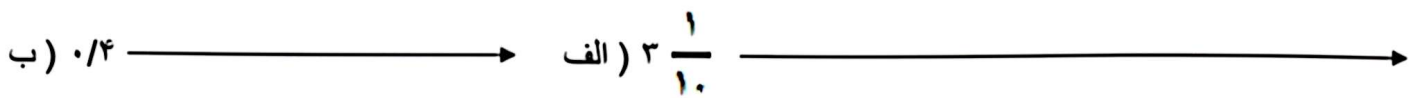
ب) $0.9 =$

۳- محیط شکل زیر را حساب کنید ؛



۴- چهل و هشت و نه دهم را به رقم بنویسید ؛

۵- عدد های زیر را روی محور نشان دهید ؛





نام و نام خانوادگی

تاریخ

موضوع:

هدف:

۱- در هر جمله، معنای کلماتی را که مشخص شده اند بنویسید.

(الف) (مشک)..... آن است که خوب بوید نه آن که (عطار) بگوید.

(ب) چرا از روی زمین لیز نمی خوریم و در آسمان (معلق)..... نمی مانیم؟

(ج) همه ی زندگی ابوریحان در راه گسترش و رشد علم و دانش (سپری شد).....

(د) او به کشف چیزهای ناشناخته، علاقه ی بسیار داشت و از نادانی و جهل (گریزان)..... بود.

(ه) نفس عمیقی کشید و از هوای (دلنشین)..... بهاری لذت برد.

(ی) (فناوری)..... و پیشرفت های علمی، هر بیننده و شنونده ای را شگفت زده می کند.

۲- معنای جمله ها و بیت های زیر را بنویسید.

موشکی کرد خوابش آشفته

(الف) بود شیری به بیشه ای خفته

.....

با دم شیر می کنی بازی

(ب) گفت: ای موش لوس یک غازی

.....

تا که در برد شیر از آن جا جان

(ج) بند ها را جوید با دندان

.....

(د) دو کس رنج بیهوده بردند و سعی بی فایده کردند: یکی آن که اندوخت و نخورد و دیگر آن که آموخت و نکرد.

.....

.....



موضوع:

تاریخ:

نام و نام خانوادگی:

هدف:

	<p>۱ باپر کردن یکی از مربع های جلوی هر مورد، پاسخ را مشخص کنید.</p> <p>◀ آیا ضربان قلب هنگام استراحت و خواب هم وجود دارد؟</p> <p>◀ آیا همه ی سلول ها پس از آسیب دیدن قابل ترمیم هستند؟</p> <p><input type="checkbox"/> خیر <input type="checkbox"/> بلی</p> <p><input type="checkbox"/> خیر <input type="checkbox"/> بلی</p>	۱																				
	<p>۲ عبارت های ستون سمت راست را به کار و وظیفه ی مناسب آن ها درست چپ جور کنید.</p> <table border="0"> <tr> <td>● سرخرگ</td> <td>● تصفیه ی خون</td> </tr> <tr> <td>● سلول های پوست</td> <td>● جذب مواد غذایی</td> </tr> <tr> <td>● موهای بینی</td> <td>● تلمبه کردن خون</td> </tr> <tr> <td>● مثانه</td> <td>● انتقال غذا از دهان به معده</td> </tr> <tr> <td>● گلبول های سفید</td> <td>● رساندن خون به سلول ها</td> </tr> <tr> <td>● کلیه</td> <td>● برگرداندن خون از سلول ها</td> </tr> <tr> <td>● قلب</td> <td>● نگه داری ادرار تا زمان دفع</td> </tr> <tr> <td>● مری</td> <td>● جلوگیری از ورود میکروب ها</td> </tr> <tr> <td>● سلول های روده ی باریک</td> <td>● دفاع از بدن در مقابل میکروب ها</td> </tr> <tr> <td>● سیاه رگ</td> <td>● گرفتن گرد و خاک هوا قبل از ورود به نای</td> </tr> </table>	● سرخرگ	● تصفیه ی خون	● سلول های پوست	● جذب مواد غذایی	● موهای بینی	● تلمبه کردن خون	● مثانه	● انتقال غذا از دهان به معده	● گلبول های سفید	● رساندن خون به سلول ها	● کلیه	● برگرداندن خون از سلول ها	● قلب	● نگه داری ادرار تا زمان دفع	● مری	● جلوگیری از ورود میکروب ها	● سلول های روده ی باریک	● دفاع از بدن در مقابل میکروب ها	● سیاه رگ	● گرفتن گرد و خاک هوا قبل از ورود به نای	۲
● سرخرگ	● تصفیه ی خون																					
● سلول های پوست	● جذب مواد غذایی																					
● موهای بینی	● تلمبه کردن خون																					
● مثانه	● انتقال غذا از دهان به معده																					
● گلبول های سفید	● رساندن خون به سلول ها																					
● کلیه	● برگرداندن خون از سلول ها																					
● قلب	● نگه داری ادرار تا زمان دفع																					
● مری	● جلوگیری از ورود میکروب ها																					
● سلول های روده ی باریک	● دفاع از بدن در مقابل میکروب ها																					
● سیاه رگ	● گرفتن گرد و خاک هوا قبل از ورود به نای																					
	<p>۳ ★ خوردن کدام یک از غذاهای زیر برای دستگاه گردش خون مفید است؟</p> <p><input type="checkbox"/> الف : کره <input type="checkbox"/> ب : نمک <input type="checkbox"/> ج : گردو <input type="checkbox"/> د : قند</p>	۳																				
	<p>۴ ★ آخرین مرحله ی اصلی هضم غذا در کدام قسمت دستگاه گوارش انجام می گیرد؟</p> <p><input type="checkbox"/> الف : روده ی بزرگ <input type="checkbox"/> ب : مری <input type="checkbox"/> ج : معده <input type="checkbox"/> د : روده ی باریک</p>	۴																				
	<p>۵ جاهای خالی را با کلمات مناسب پر کنید.</p> <p>کوچکترین واحد ساختمانی بدن نام دارد.</p> <p>تعداد ضربان قلب و نبض در افراد سالم است.</p> <p>میزان گنجایش شش ها به آن ها بستگی دارد.</p> <p>برای دیدن چیزهای بسیار بسیار ریز از وسیله ای به نام استفاده می کنند.</p>	۵																				

