



موضوع: سری ۱ سوالات ریاضی عید پایه چهارم

تاریخ

نام و نام خانوادگی

هدف:



۱\_ در الگوی زیر شکل بیستم از چند دایره تشکیل شده است؟ رابطه ی الگو را بنویسید.




۲\_ الف) عدد ششصد و نود میلیون و سه هزار و هفتاد و سه را به رقم بنویسید.

میلیون			هزار			یکی		
ص	د	ی	ص	د	ی	ص	د	ی

ب) این عدد را در جدول ارزش مکانی رو به رو قرار دهید.

ج) بیشترین رقم در چه مرتبه ای قرار گرفته است؟




۳\_ کتاب سارا ۲۵۰ صفحه دارد. او  $\frac{2}{5}$  کتابش را خواند. الف) او چند صفحه از کتابش را خوانده است؟

ب) چند صفحه از کتاب او باقی مانده است؟

۴\_ کارخانه گلبافت برای ۲۶۴ فروشگاه پتو فرستاد. به هر فروشگاه ۲۰۴ پتو رسید و ۷ پتو هم باقی ماند. تعداد پتو ها چندتا بوده است؟

۵\_ برای هر شکل مقدار (؟) را به دست آورید.





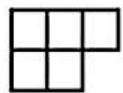
موضوع: سری ۲. سوالات ریاضی عید پایه چهارم

تاریخ


نام و نام خانوادگی

هدف:

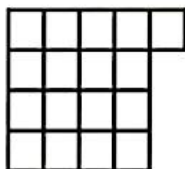
۱\_ رابطه ی الگوی زیر را به دست آورید و بگویید شکل دهم از چند مربع تشکیل شده است؟



(1)



(۲)



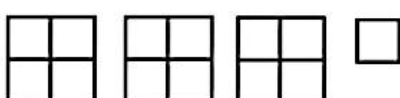


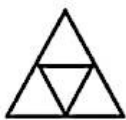
(۳)



۲\_ جدول زیر را کامل کنید.

کوچکترین عدد فرد		بزرگ ترین عدد زوج		پنج رقمی
بی تکرار	با تکرار	بی تکرار	با تکرار	
				شش رقمی

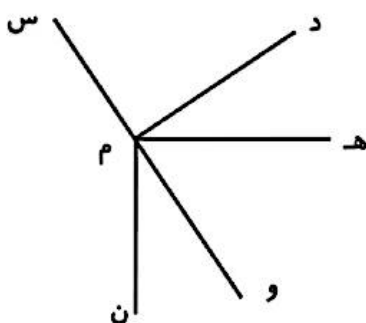
۳\_ عدد مخلوط مربوط به هریک از شکل های زیر را بنویسید.



۴\_ باقی مانده تقسیم عدد  $872 + 349$  بر ۱۱ را به دست آورید.



۵\_ باتوجه به شکل به سوالات زیر پاسخ دهید:



(الف) دو زاویه راست نام ببرید.

(ب) دو زاویه باز نام ببرید.

(ج) دو زاویه تند نام ببرید.



موضوع: سری ۳ سوالات ریاضی عید پایه چهارم

تاریخ

نام و نام خانوادگی

هدف:



۱\_ به الگوی زیر توجه کنید و بگویید شکل ۱۸ از چند چوب کبریت تشکیل می شود؟



۲\_ عدد ششصد و بیست میلیون و هفده هزار و چهل را به رقم بنویسید و بگویید بزرگ ترین رقم در چه مرتبه ای قرار دارد؟

۳\_  $\frac{3}{8}$  کتاب های آرش علمی و  $\frac{1}{4}$  کتاب هایش داستانی است و بقیه درسی هستند.

الف) چه کسری از کتاب های آرش علمی و داستانی است؟

ب) چه کسری از کتاب هایش درسی است؟

۴\_ به سوال های زیر پاسخ دهید:

الف) دو ساعت و  $\frac{3}{4}$  یک ساعت چند دقیقه می شود؟

ب) خمس عدد ۵۰ چند می شود؟

۵\_ نصف پول سارا ۵۷۴۰ تومان است. او با تمام پول خود چند پاک کن ۱۴ تومانی می تواند بخرد. چقدر از پولش باقی می ماند؟

پولش باقی می ماند؟

