



بِسْمِ اللَّهِ الرَّحْمَنِ الرَّحِيمِ



۱ عددهای زیر را در جدول ارزش مکانی قرار دهید و با حروف بنویسید.

الف) ۱۴ تا ۰/۱

ب) ۷۳ تا ۰/۱

۲ قسمت های درست را با رنگ سبز و نادرست را با رنگ قرمز رنگ آمیزی کنید.

۲/۴ یعنی ۴ تا ۰/۱ } $3/5 + 2/7 = 5/12$ } ۱۸ تا ۰/۱ می شود ۱/۸ } هر یک واحد را می توان به ۱۰ تا ۰/۱ تقسیم کرد.

عددهای زیر را در جدول ارزش مکانی قرار دهید و با حروف بنویسید.

الف) ۱۴ تا ۰/۱ = ۱۴/۰

دهم | یکان
۱۴

دهم | یکان
۰/۱۴

ب) ۷۳ تا ۰/۱ = ۷۳/۰

قسمت های درست را با رنگ سبز و نادرست را با رنگ قرمز رنگ آمیزی کنید.

هر یک واحد را می توان به ۱۰ تا ۰/۱ تقسیم کرد.	۱۸ تا ۰/۱ می شود ۱/۸	$3/5 + 2/7 = 5/12$	۲/۴ یعنی ۴ تا ۰/۱
---	----------------------	--------------------	-------------------

مقدار تقریبی هریک از عبارتهای زیر را به دست آورید.



الف) $4/9 + 2/5 - 2/8 =$

ب) $12/9 - 8/2 - 2/4 =$

حاصل عبارتهای زیر را به دست آورید.



الف) $11/7 + 12/2 - 4/8 =$

ب) $14/8 - 8/1 + 2/6 =$

ظرفیت باک انومیلی ۳۵ لیتر است. اگر ۱۲/۳ لیتر بنزین درون آن بریزیم، باک پر می شود. از قبل چند لیتر بنزین در باک

وجود داشته است؟



مقدار تقریبی هریک از عبارتهای زیر را به دست آورید.



الف) $\frac{2}{9} + \frac{2}{5} - \frac{2}{8}$

ب) $\frac{12}{9} - \frac{8}{2} - \frac{2}{4}$

$5 + 4 - 3 = 6$

$12 - 8 - 2 = 2$

الف) $\frac{11}{7} + \frac{12}{2} - \frac{4}{8} = 20,1$

ب) $\frac{14}{8} - \frac{8}{1} + \frac{3}{6} = 10,3$

$\frac{11,7}{+ 12,2} = \frac{24,9}{20,1}$

$\frac{24,9}{- 4,8} = \frac{20,1}{20,1}$

$\frac{4,8}{+ 4,8} = \frac{9,6}{9,6}$

$\frac{8,1}{- 8,1} = \frac{0,0}{0,0}$

$\frac{3,4}{+ 3,4} = \frac{6,8}{6,8}$

حاصل عبارتهای زیر را به دست آورید.



ظرفیت باک اتومبیلی ۳۵ لیتر است. اگر $\frac{12}{3}$ لیتر بنزین درون آن بریزیم، باک پر می شود. از قبل چند لیتر بنزین در باک وجود داشته است؟



$\frac{35}{- 12,3} = \frac{22,7}{22,7}$

از قبل ۲۲,۷ لیتر بنزین در باک وجود داشته است.

۱ حاصل عبارت های زیر را بنویسید.

$$2/8 + 3/1 - 2/4 =$$

$$4/2 - 0/7 + 3/5 =$$

۲ طول یک مستطیل $8/3$ سانتی متر و عرض آن $5/9$ سانتی متر است. محیط این مستطیل را به دست آورید.

.....
.....
.....

۳ مقایسه کنید (< = >).

$$7/1 \bigcirc 6/3$$

$$0/7 + 0/2 \bigcirc 2/7$$

$$2/6 - 1/4 \bigcirc 2/2$$

$$0/5 \bigcirc 1/4$$

۵,۹

$$\frac{2}{8} + \frac{3}{1} - \frac{2}{4} = 3,5$$

$$\frac{4}{2} - 0,7 + \frac{3}{5} = 7,0$$


۳,۵

حاصل عبارت های زیر را بنویسید.



طول یک مستطیل $\frac{8}{3}$ سانتی متر و عرض آن $\frac{5}{9}$ سانتی متر است. محیط این مستطیل را به دست آورید.

$$1,3 + 5,9 + 1,3 + 5,9 = 21,4$$



مقایسه کنید (< = >).

$$7/11 > 6/13$$

$$0,9 < 2/7 + 0,2$$

$$2,2 > 3/6 - 1/4$$

$$0,5 < 1/4$$

وزن علی $\frac{29}{3}$ کیلوگرم و وزن حمید $\frac{23}{9}$ کیلوگرم می باشد. در این صورت:



الف) کدام یک وزن بیش تری دارد؟ چقدر؟

ب) مجموع وزن این دو نفر چند کیلوگرم است؟

مجموع سه عدد ۷ می باشد. اگر عدد اول $\frac{1}{9}$ و عدد دوم $\frac{4}{3}$ باشد، عدد سوم چند است؟



$$\begin{array}{r} 29,3 \\ - 23,9 \\ \hline 5,4 \end{array}$$

$$29,3 - 23,9$$

۴ وزن علی ۲۹/۳ کیلوگرم و وزن حمید ۲۳/۹ کیلوگرم می باشد. در این صورت:

الف) کدام یک وزن بیش تری دارد؟ چقدر؟

وزن علی ۵/۴ بیش تر است.

①①

$$\begin{array}{r} 29,3 \\ + 23,9 \\ \hline 53,2 \end{array}$$

ب) مجموع وزن این دو نفر چند کیلوگرم است؟

مجموع وزن این دو نفر ۵۳/۲ کیلوگرم می باشد.

$$53,2$$

۵ مجموع سه عدد ۷ می باشد. اگر عدد اول ۱/۹ و عدد دوم ۴/۳ باشد، عدد سوم چند است؟

$$1,9 + 4,3 + \square = 7$$

ماشین ورودی خروجی برعکس ←

$$\begin{array}{r} 67,5 \\ - 4,3 \\ \hline 63,2 \end{array}$$

$$\begin{array}{r} 1,7 \\ - 4,3 \\ \hline 5,8 \end{array}$$

عدد سوم ۰/۸ می باشد.

کلمات هر ستون را با هم ترکیب کنید و کلمات غیر ساده بسازید.



- شنا
- نمای
- ناپذیر
- فایده
- آور

- نفوذ
- کسالت
- هنر
- بی
- نا



در کدام گزینه تمام واژه ها هم خانواده هستند؟



(۱) ادب، آداب، مؤدب

(۲) عطر، عطر، مشک


(۳) نظر، منظم، ناظر

(۴) عالم، معلوم، عمل

کلمات هر ستون را با هم ترکیب کنید و کلمات غیر ساده بسازید.



نفوذ نایذیر
کسالت آور
هنر نمای
بی فایده
ناشنوا



در کدام گزینه تمام واژه ها هم خانواده هستند؟



۱) عالم، معلوم، عمل

۲) نظر، منظم، ناظر

۳) عطر، عطر، مشک

۴) ادب، آداب، مؤدب

با واژه‌های به هم ریخته‌ی زیر، جمله بسازید.



ببویید - مشک - عطر - آن که - خود - آن - نه - است - که - بگویند،

معنای ضرب المثل به دست آمده را بنویسید.

عالم بی عمل به چه ماند، به زنبور بی عمل، این جمله به چه معناست؟



معنی واژه‌های داده شده را مقابل آن بنویسید.





طبله



عطر



میان‌تهی



ناپسند

۳ با واژه‌های به هم ریخته‌ی زیر، جمله بسازید. **مشک آن است که خود بیوید نه آن که عطار بگوید**

بیوید - مشک - عطار - آن که - خود - آن - نه - است - که - بگوید
مشک واقعی آن است که بوی خوشش به مشام برسد

معنای ضرب المثل به دست آمده را بنویسید.
نه آنکه عطار (عطرفروش) از بوی خوش آن تعریف کند.

۴ عالم بی عمل به چه مانند، به زنبور بی عسل، این جمله به چه معناست؟

دانشمندی که به علم و دانش خود عمل نمی کند مانند چیست ؟ مثل زنبوری

است که عسل ندارد یعنی تلاشش فایده ای ندارد.

۵ معنی واژه‌های داده شده را مقابل آن بنویسید.

صندوقچه
عطر فروش



طب‌ه



عطار

خالی

زینت



میان تهی



ناپسند



کلمه ی مناسب را برای جای خالی انتخاب کنید.



الف) شیر گفت: «ای موش لوس یک ، (قاضی - غازی)

ب) پسر سال برای جواب آماده شد. (خورد - خُرد)

پ) این حرف از باطل است. (اساس - اثاث)

مخالف (متضاد) هر واژه را بنویسید.



خفته ≠

گربه ≠

خواب ≠

رهایی ≠

برای واژه‌های مفرد زیر، جمع بنویسید.



بیچاره ← جمع

حال ← جمع

زیر واژه‌هایی که از نظر املايي نادرست نوشته شده‌اند، خط بکش و درست هر یک را بنویس.



«شیراز از این رابع رحم حاصل کرد - هول و هوش - شاه وهوش - در حراس افتاد،





کلمه ی مناسب را برای جای خالی انتخاب کنید.



الف) شیر گفت: «ای موش لوس یک

، (قاضی - غازی)

ب) پسر سال برای جواب آماده شد. (خورد - خُرد)

پ) این حرف از

باطل است. (اساس - اثاث)

مخالف (متضاد) هر واژه را بنویسید.



خفته ≠ بیدار

گریه ≠ خنده

رهایی ≠ اسارت

خواب ≠ بیدار

برای واژه های مفرد زیر، جمع بنویسید.



بیچارگان

جمع ← حال

بیچاره

جمع ← بیچاره

زیر واژه هایی که از نظر املايي نادرست نوشته شده اند، خط بکش و درست هر یک را بنویس.



شیراز از این رابع رحم حاصل کرد - هول و هوش - شاه وهوش - در حراس افتاد،

لابه حاصل - حول و حوش - وحوش - هراس