



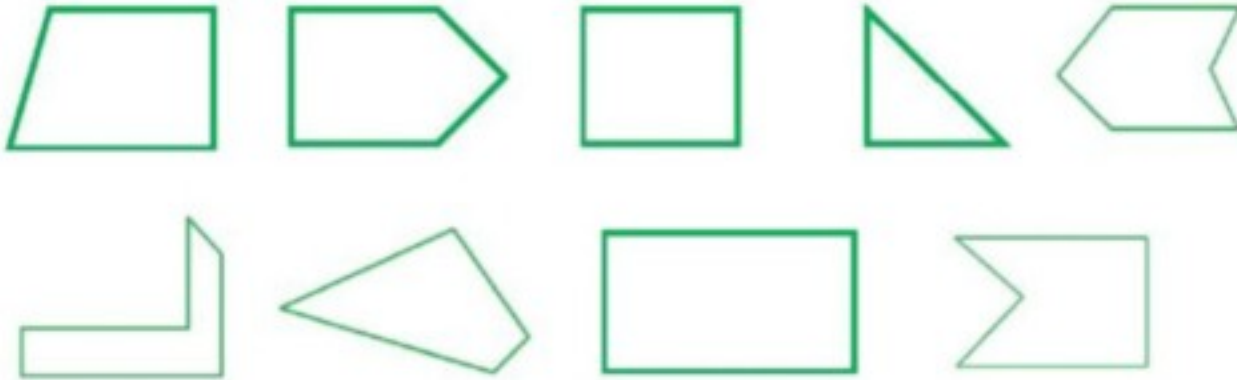
موضوع:

تاریخ:

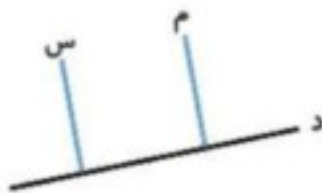
نام و نام خانوادگی:

هدف:

۱۳- در شکل‌های زیر، ضلع‌های موازی را هم‌رنگ کنید.



۱۴- خط‌های (م) و (س) بر خط (د) عمود هستند. این دو خط نسبت به یک‌دیگر چه حالتی دارند؟



۱۵- دو پاره‌خط رسم کنید تا بر دو خط موازی (س) و (م) عمود باشند.



۱۶- با پاسخ به سؤال‌های زیر، از نقطه‌ی (س) خطی موازی با خط (د) رسم کنید.

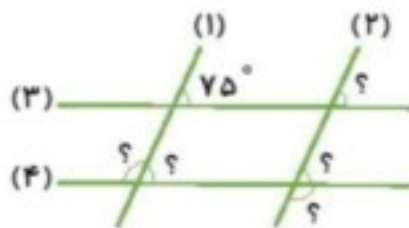
س

الف) از نقطه‌ی (س) بر خط (د) عمود رسم کنید.

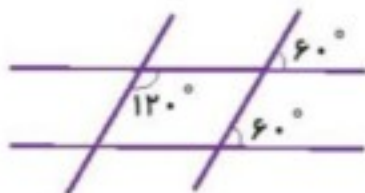


ب) از نقطه‌ی (س) بر خط جدید رسم شده، یک عمود رسم کنید.

۱۷- با توجه به این‌که خطوط (۱) و (۲) و نیز خطوط (۳) و (۴) با هم موازی هستند، اندازه‌های زاویه‌هایی که با علامت ؟ مشخص شده را بنویسید.



۱۸- در شکل زیر، با توجه به اندازه‌های زاویه‌ها، خط‌های موازی با هم را رنگ کنید.



Handwritten text in red ink at the bottom right corner of the page.