





موضوع:

تاریخ:






نام و نام خانوادگی:

هدف:

۲۷- جدول زیر را کامل کنید.

		
		شبهات ها
		تفاوت ها

۲۸- ابتدا مانند نمونه، نام هر چهارضلعی را در کنار آن نوشته و سپس یک تفاوت چهارضلعی‌های خواسته شده را نسبت به یکدیگر بنویسید.

 _____	 _____	 _____	
		<p>مربع ۴ ضلع مساوی دارد ولی در مستطیل ضلع‌های روبرو با هم مساوی‌اند.</p>	 مربع
			 _____

۲۹- خاصیت‌های مشترک همه‌ی شکل‌های زیر را بنویسید.



_____ ضلع‌ها:

_____ زاویه‌ها:

_____ قطر‌ها:



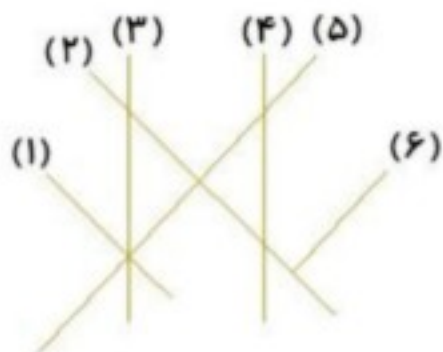
موضوع:

تاریخ:

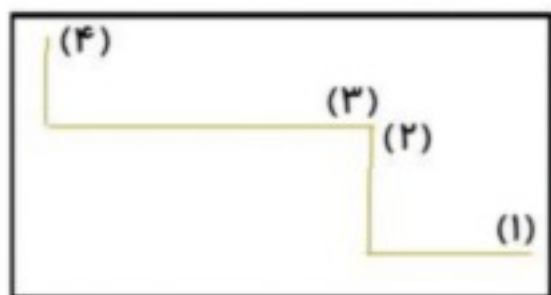
نام و نام خانوادگی:

هدف:

۱۰- زاویه های عمود را به کمک گونیا پیدا کرده و مشخص کنید و نام خطهای موازی را بنویسید.



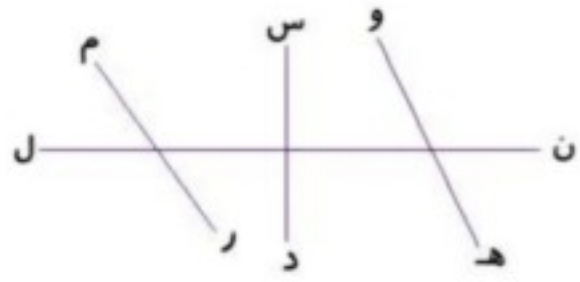
۱۱- هر کدام از خطوط زیر نسبت به یکدیگر، چه حالتی دارند؟



Four colored boxes for answers, each with a circled number above it:

- Blue box: ۴ و ۱
- Orange box: ۴ و ۲
- Green box: ۳ و ۲
- Yellow box: ۳ و ۱

۱۲- با توجه به شکل، پاسخ سؤالهای زیر را بنویسید.



Three boxes for answers, each with a label above it:

- Blue box: دو خط عمود بر هم
- Orange box: دو خط متقاطع
- Green box: دو خط موازی

بازخورد:

Hand-drawn dashed box containing several horizontal lines for writing feedback.

