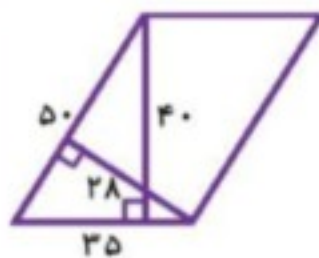
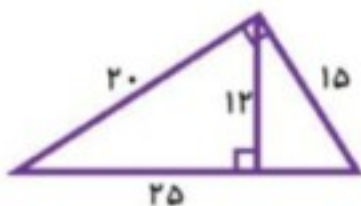


۳۹- مساحت هر یک از شکل‌های زیر را از دو طریق حساب کنید.



۴۰- دور باغی به شکل مربع، ۵ دور سیم خاردار کشیده‌ایم. اگر ۵۰۰ متر سیم خاردار مصرف کرده باشیم، مساحت این باغ چند متر مربع است؟

۴۱- مساحت دیوار مقابل را حساب کنید. (اندازه‌ها به متر است.)



۴۲- در اتاقی مستطیل شکل که طول آن $5/2$ متر و عرض آن $3/6$ متر است، فرش انداخته‌ایم که از هر طرف ۱۰۰ سانتی‌متر با دیوارها فاصله دارد. مساحت این فرش چند سانتی‌متر مربع است؟



۴۳- میزی به طول ۵۰۰ سانتی‌متر و عرض ۳۰۰ سانتی‌متر داریم. می‌خواهیم یک رومیزی برای آن درست کنیم که از هر طرف ۱۰۰ سانتی‌متر آویزان باشد. مساحت رومیزی چند سانتی‌متر مربع است؟



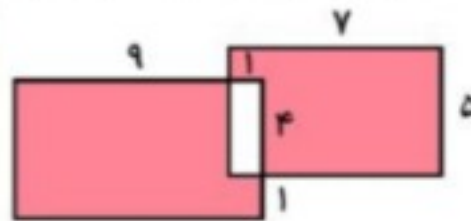
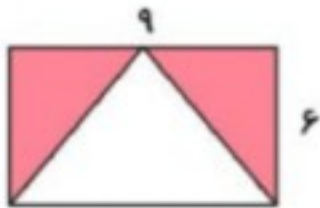
۴۴- استخری داریم به طول $4/8$ متر که عرض آن نصف طولش است. مساحت آن چند سانتی‌متر مربع است؟

۴۵- محیط مربعی ۸ متر است. اگر محیط یک لوزی نصف محیط این مربع باشد، اندازه‌ی یک ضلع لوزی چند سانتی‌متر است؟

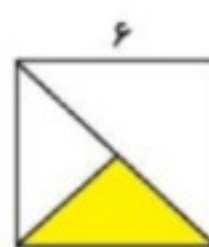
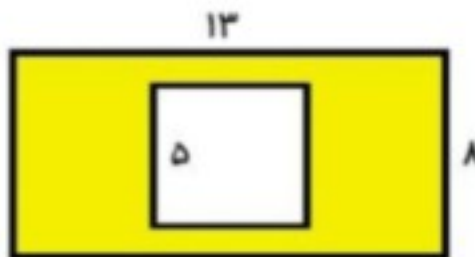
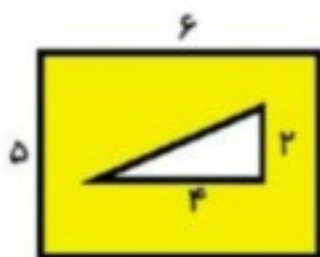




۵۳- مساحت قسمت رنگی را در هر شکل حساب کنید.



۵۴- در هر شکل مساحت قسمت رنگی را حساب کنید. (همه‌ی اندازه‌ها به سانتی‌متر است.)



۵۵- الف) از میان همه‌ی مستطیل‌هایی که محیط آن‌ها با هم برابر و مساوی ۱۶ است، کدام یک بیش‌ترین مساحت را دارد؟

مساحت = _____	مساحت = _____	مساحت = _____	مساحت = _____

ب) از میان همه‌ی مستطیل‌هایی که مساحت آن‌ها با هم برابر و مساوی ۱۶ است، کدام یک بیش‌ترین محیط را دارد؟

محیط = _____	محیط = _____	محیط = _____



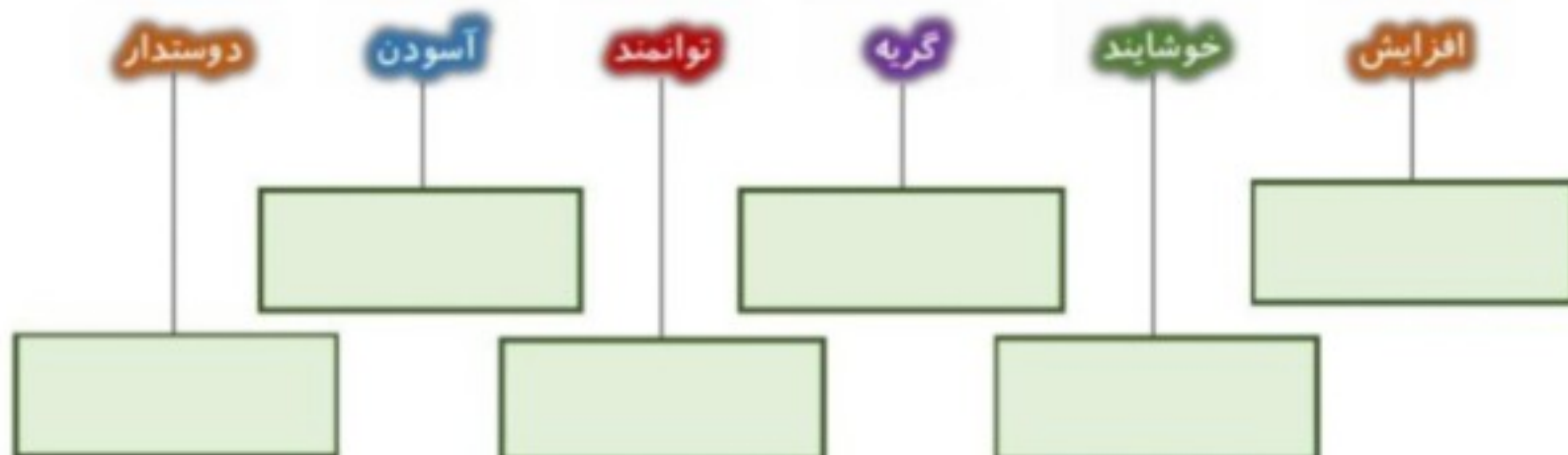
موضوع:

تاریخ

نام و نام خانوادگی

هدف:

و) خانواده‌ی هر یک از واژه‌های زیر، در شعر آمده است، آن‌ها را پیدا کن و بنویس.



۲- مانند نمونه کامل کن.

الف) مادر فرزندش را در گهواره خواباند.

ج) علی بول‌هایش را در فلک جمع کرد.

ب) رئیس تقدیرنامه را به معاون داد.

انداخت.	روی کولش	کیفش را	ترانه