



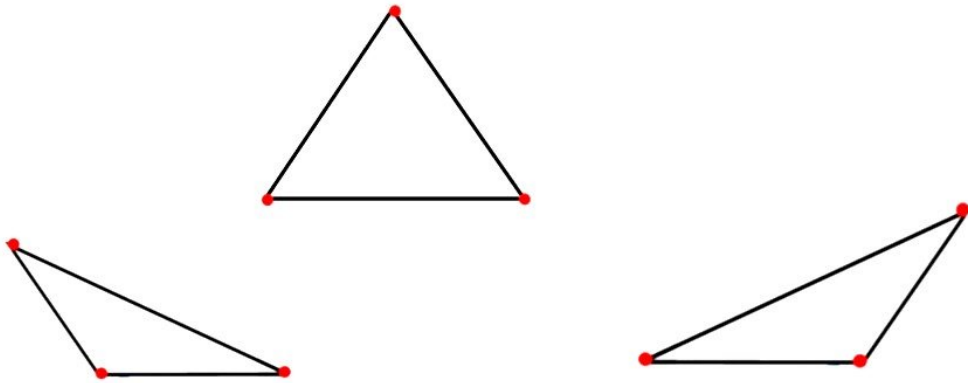
موضوع:

تاریخ:

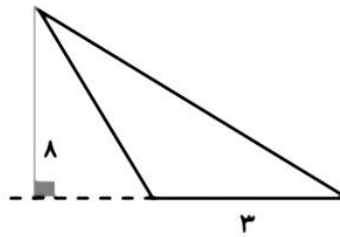
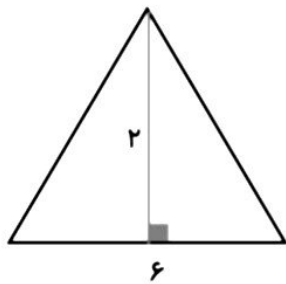
نام و نام خانوادگی:

هدف:

برای هر راس مثلثها با یک رنگ ارتفاع بکشید



مساحت مثلثها با ذکر فرمول به دست آورید



بازخورد:

Empty rounded rectangular box for feedback.

