



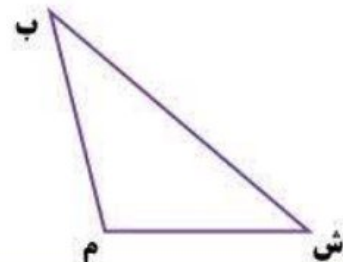

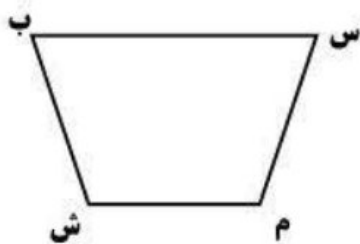
موضوع: ریاضی

تاریخ:

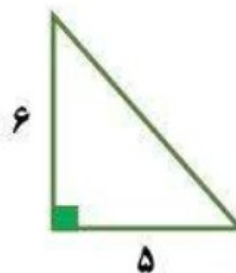
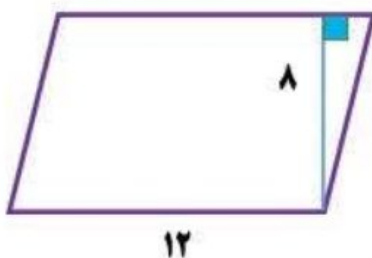
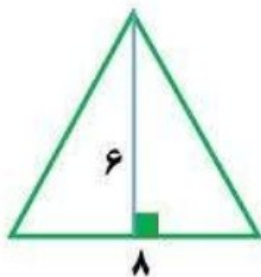
نام و نام خانوادگی:

هدف: تمرین

۱- در شکل های زیر همه ارتفاع هایی که از رأس (م) می گذرند، رسم کنید.

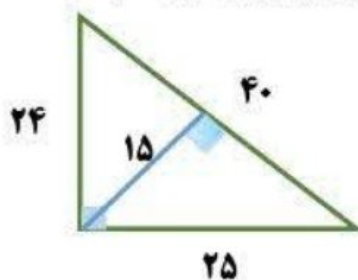
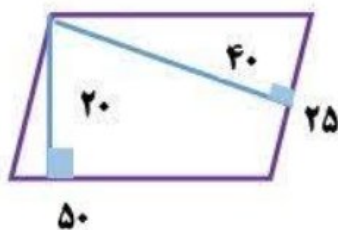


۱- مساحت شکل های زیر را به دست آورید.



۳- مساحت مثلثی را به دست آورید که قاعده‌ی آن ۱۰ سانتی متر و ارتفاعش ۲۰ سانتی متر باشد.

۴- مساحت شکل های زیر را از دو طریق حساب کنید.



۵- مساحت متوازی الاضلاعی ۲۴۰۰ متر مربع است. اگر قاعده آن ۳۰ متر باشد. ارتفاع آن چند متر است؟

برای پاسخ به سؤالات درج شده در این بخش، نام خود را در خط اول بنویسید.

---



---



---



---

