



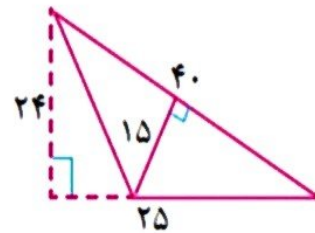
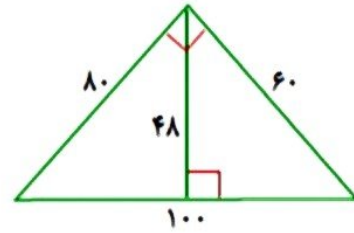
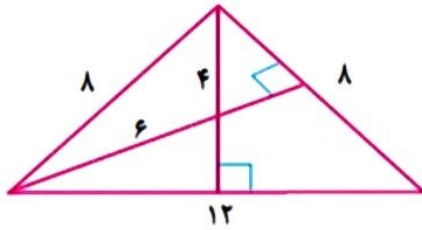
موضوع:

تاریخ

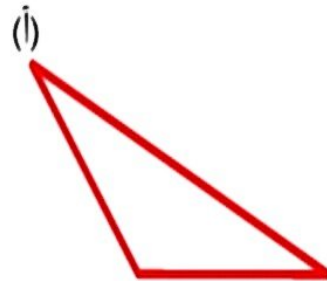
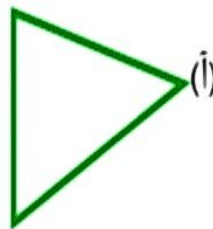
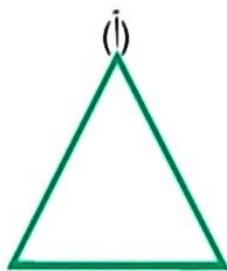
نام و نام خانوادگی

هدف:

۴- مساحت شکل های زیر را از دو طریق حساب کنید. (هر بار یک قاعده و یک ارتفاع)



۵- ارتفاع های مثلث های زیر را از راس (ا) رسم کنید.



بازخورد:

Four horizontal lines for writing feedback.

