

ارمغان هفته - چهارم دبستان

شماره ی

۲۳

نام و نام خانوادگی: تاریخ: نام آموزگار:

ریاضی: فصل ۱۵، عدد مخلوط و عدد اعشاری - ارزش مکانی اعداد اعشاری مطالعات اجتماعی: درس ۱۸، پوشش گیاهی و زندگی جانوری در ایران
علوم: درس ۱۹، بدن ما (۱)
فارسی: درس ۱۵، شیر و موش (۱)
قرآن: درس ۱۳، جلسه ی اول
هدیه های آسمان: درس ۱۷، آقای بهاری، خانم بهاری (۲)

ریاضی

عددهای زیر را در جدول ارزش مکانی قرار دهید و با حروف بنویسید.

الف) ۱۴ تا ۰/۱

ب) ۷۳ تا ۰/۱

قسمت های درست را با رنگ سبز و نادرست را با رنگ قرمز رنگ آمیزی کنید.

۲/۴ یعنی ۴ تا ۰/۱ | $3/5 + 2/7 = 5/12$ | ۱۸ تا ۰/۱ می شود ۱/۸ | هر یک واحد را می توان به ۱۰ تا ۰/۱ تقسیم کرد.

مقدار تقریبی هریک از عبارت های زیر را به دست آورید.

الف) $2/8 - 2/5 + 2/9$ (الف)

ب) $2/4 - 8/2 - 12/9$ (ب)

حاصل عبارت های زیر را به دست آورید.

الف) $2/8 - 12/2 + 11/7$ (الف)

ب) $2/6 + 8/1 - 14/8$ (ب)

ظرفیت باک اتومبیلی ۳۵ لیتر است. اگر $12/3$ لیتر بنزین درون آن بریزیم، باک پر می شود. از قبل چند لیتر بنزین در باک

وجود داشته است؟



علوم

جاهای خالی را کامل کنید.

- الف) کوچک‌ترین بخش سازنده‌ی بدن انسان، است.
ب) سلول‌ها با استفاده از زیاد می‌شوند.
پ) سلول ماهیچه وظیفه‌ی و سلول روده را به عهده دارند.
ت) برای دیدن سلول از استفاده می‌شود که دارای ذره بین بسیار قوی است.
ث) اندازه‌ی بدن موجودات زنده به بستگی دارد.

موارد مرتبط را به هم وصل کنید.

- | | |
|--|-------------|
| گوارش از آن‌جا آغاز می‌شود. | مری |
| لوله‌ای که دهان را به معده وصل می‌کند. | قلب |
| جزء دستگاه گوارش نمی‌باشد. | دهان |
| در این عضو مواد غذایی کوچک شده و وارد رگهای خونی می‌شود. | روده‌ی کوچک |

هر یک از سلول‌های بدن موجودات شکل معینی دارند. شکل سلول‌ها متناسب با کدام مورد است؟

- ۱) نوع موجود زنده ۲) نوع کار ۳) میزان فعالیت ۴) نوع تقسیم سلولی

بخش‌های گوناگون سلول را نام ببرید.

فارسی

روی هر گیلاس هم‌معنی کلمه را بنویسید.

مغفرت

هراس

صیاد

رحم

کلمه ی مناسب را برای جای خالی انتخاب کنید.

الف) شیر گفت: «ای موش لوس یک ... (قافی - غازی)

ب) پسر ... سال برای جواب آماده شد. (خورد - خُرد)

پ) این حرف از ... باطل است. (اساس - اثاث)

مخالف (متضاد) هر واژه را بنویسید.

خفته ⇌ گریه ⇌ خواب ⇌ رهایی ⇌

برای واژه های مفرد زیر، جمع بنویسید.

بیچاره ← جمع ←
حال ← جمع ←

زیر واژه هایی که از نظر املايي نادرست نوشته شده اند، خط بکش و درست هر یک را بنویس.

شیراز از این رباع رحم حاصل کرد - هول و هوش - شاه وهوش - در حراس افتاد،

مطالعات اجتماعی

ویژگی های زیر را طبق تصویر کامل کنید.

الف) این جانور در ناحیه ی آب و هوایی ... زندگی می کند.

ب) مژه های بلند و پلک های شتر از چشم های او در برابر ...

پ) کوهان عضوی است که ...

ت) دهان شتر به گونه ای است که می تواند ...

ث) پاهای شتر پهن آفریده شده اند به همین دلیل این حیوان ...

ج) چه اطلاعات دیگری درباره ی شتر دارید؟ آن ها را بنویسید.



۳

کدام یک از گیاهان زیر در ناحیه‌ی معتدل خزری می‌روید؟

نخل (۴)

راش (۳)

گز (۲)

بلوط (۱)

کدام گیاه در آب و هوای گرم و خشک نمی‌روید؟

گز (۴)

پستی وحشی (۳)

بلوط (۲)

نخل (۱)

هدیه‌های آسمان - قرآن

جاهای خالی را با کلمات مناسب پر کنید.

می‌آموزید، احترام بگذارید،








الف) پیغمبر (ص) فرمود: «به کسی که از او

کند،


ب) امام زین‌العابدین (ع) می‌فرماید: «شاگرد نباید صدایش را در برابر معلم

عبارت قرآنی زیر را بخوانید و معنای آن را بنویسید.

أَمَّنْ يُجِيبُ الْمُضْطَّرَّ إِذَا دَعَأَهُ وَ يَكْشِفُ السُّوءَ،

	جمع کلمات مفرد
	املائی درست کلمات
	ویژگی شتر و سازگاری با ناحیه گرم و خشک
	ویژگی نواحی آب و هوایی
	آشنایی با گیاهان مخصوص هر قسمت از نواحی آب و هوایی
	احترام و شکر از معلم
	ترجمه‌ی عبارات قرآنی

	ارزش مکانی رقم‌ها در اعداد اعشاری
	جمع و تفریق اعداد اعشاری
	سلول و اجزای تشکیل دهنده‌ی آن
	انواع سلول و تقسیم سلولی
	کلمات هم معنی
	درک درست کلمات هم‌آوا
	مخالف کلمات





ارمغان هفته چهارم دبستان

نام و نام خانوادگی: تاریخ: نام آموزگار:

ریاضی < لعل ۵ مدد مخلوط و عدد اعشاری - ارزش مکانی اعداد اعشاری مطالعات اجتماعی < درس ۱۸ : پوشش گیاهی و زندگی جانوری در ایران ۱
 علوم < درس ۹ بدن ما ۱
 فارسی < درس ۱۵ شیر و موش ۱
 هدیه‌های آسمان < درس ۱۷ آرای بهاری، خانم بهاری ۲
 قرآن < درس ۱۳ جلسه اول

ریاضی

۱) عددهای زیر را در جدول ارزش مکانی قرار دهید و با حروف بنویسید.

دهم	یکان
۴	۱

الف) $14 \div 10 = 1,4$ یک و چهاردهم

دهم	یکان
۳	۷

ب) $73 \div 10 = 7,3$ هفت و سه دهم

۲) قسمت های درست را با رنگ سبز و نادرست را با رنگ قرمز رنگ آمیزی کنید.

۲/۴ یعنی ۴ تا ۱/۱ - $3/5 + 2/7 = 5/12$ - هر یک واحد را می توان به ۱۰ تا ۰/۱ تقسیم کرد. - ۱۸ تا ۰/۱ می شود ۱/۸

۳) مقدار تقریبی هریک از عبارت های زیر را به دست آورید.

الف) $4/9 + 3/5 - 2/8 = 5,4$ تقریب ۶

ب) $13/9 - 8/2 - 3/4 = 2,3$ تقریب ۲

۴) حاصل عبارت های زیر را به دست آورید.

الف) $11/7 + 13/2 - 4/8 = 20,1$

ب) $14/8 - 8/1 + 3/6 = 10,3$

۵) ظرفیت باک اتومبیلی ۳۵ لیتر است. اگر $12/3$ لیتر بنزین درون آن بریزیم، باک پر می شود. از قبل چند لیتر بنزین در باک وجود داشته است؟

$35 - 12,3 = 22,7$

از قبل ۲۲،۷ لیتر بنزین

درون باک وجود دارد.



علوم

جاهای خالی را کامل کنید.

- (الف) کوچکترین بخش سازندهی بدن انسان، سلول است.
 (ب) سلولها با استفاده از غذای زیاد می‌شوند.
 (پ) سلول ماهیچه وظیفه حرکت بدن و سلول روده غذا را را به عهده دارند.
 (ت) برای دیدن سلول از میکروسکوپ استفاده می‌شود که دارای ذره بین بسیار قوی است.
 (ث) اندازهی بدن موجودات زنده به انواع سلول بستگی دارد.

موارد مرتبط را به هم وصل کنید.



هر یک از سلولهای بدن موجودات شکل معینی دارند. شکل سلولها متناسب با کدام مورد است؟

- (۱) نوع موجود زنده (۲) نوع کار (۳) میزان فعالیت (۴) نوع تقسیم سلولی

بخشهای گوناگون سلول را نام ببرید.

نویسید
 ...
 ...
 ...

فارسی

روی هر گیلان هم معنی کلمه را بنویسید.



آمرزش



ترس



شکارچی



بخشایش

۲





۲) کلمه ی مناسب را برای جای خالی انتخاب کنید.

الف) شیر گفت: «ای موش لوس یک، (قاضی - غازی)»

ب) پسر سال برای جواب آماده شد. (خورد - خرد)

پ) این حرف از باطل است. (اساس - اثاث)

۳) مخالف (متضاد) هر واژه را بنویسید.

خفته = بیدار گریه = خنده خواب = بیداری رهایی = اسارت

۴) برای واژه های مفرد زیر، جمع بنویسید.

بیچاره ← جمع بیچارگان حال جمع ← احوال

۵) زیر واژه هایی که از نظر املايي نادرست نوشته شده اند، خط بکش و درست هر یک را بنویس.

شیراز از این رابع رحم حاصل کرد - هول و هوش - شاه وهوش - در حراس افتاد
 حزن سرور لایم حاصل عول و صوین و صوین حراس

مطالعات اجتماعی

۱) ویژگی های زیر را طبق تصویر کامل کنید.

الف) این جانور در ناحیه ی آب و هوایی گسرد و خسیله زندگی می کند.

ب) مژه های بلند و پلک های شتر از چشم های او در برابر طوفان شن و آسین سدید اصاب محافظت می کنند.

پ) کوهان عضوی است که در آن غذا و آب را ذخیره می کند.

ت) دهان شتر به گونه ای است که می تواند گدازن خاردار را بچود و بخورد.



ث) پاهای شتر پهن / آفریخه شده اند به همین دلیل این حیوان بر روی زمین گداز می کند.

ج) چه اطلاعات دیگری درباره ی شتر دارید؟ آن ها را بنویسید. (به نمونه ی دانش آموزان مراجعه کنید)



۳ کدام یک از گیاهان زیر در ناحیه‌ی معتدل خزری می‌روید؟

(۱) بلوط (۲) گز (۳) راش (۴) نخل

۴ کدام گیاه در آب و هوای گرم و خشک نمی‌روید؟

(۱) نخل (۲) بلوط (۳) پسته‌ی وحشی (۴) گز

هدیه‌های آسمان - قرآن

۱ جاهای خالی را با کلمات مناسب پر کنید.

الف) پیامبر (ص) فرمود: به کسی که از او سلام می‌آموزید، احترام بگذارید.
 ب) امام زین‌العابدین (ع) می‌فرماید: شاگرد نباید صدایش را در برابر معلم بلرز کند.

۳ عبارت قرآنی زیر را بخوانید و معنای آن را بنویسید.

وَأَمَّنْ يُجِيبُ الْمُضْطَّرَّ إِذَا دَعَأَهُ وَ يَكْشِفُ السُّوءَ

کجا است آن معظّمی که هرگاه دعا کند به اجابت می‌رسد

میزبان	میزبان	میزبان	میزبان	شاخص‌ها
				جمع کلمات مفرد
				اعلای درست کلمات
				ویژگی شتر و سازگاری با ناحیه گرم و خشک
				احترام و تشکر از معلم
				ویژگی نواحی آب و هوایی
				آشنایی با گیاهان مخصوص هر قسمت قریس آب و هوایی
				ترجمه‌ی عبارات قرآنی

میزبان	میزبان	میزبان	میزبان	شاخص‌ها
				ارزش مکانی رقم‌ها در اعداد اعشاری
				جمع و تفریق اعداد اعشاری
				سلول و اجزای تشکیل دهنده‌ی آن
				انواع سلول و تقسیم سلولی
				کلمات هم معنی
				درک درست کلمات هم‌آوا
				مخالف کلمات

