



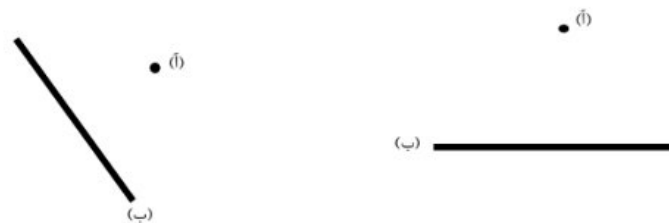
ریاضی  
تمرین

موضوع:  
هدف:

تاریخ

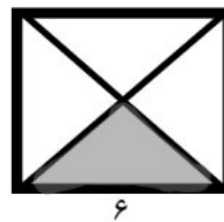
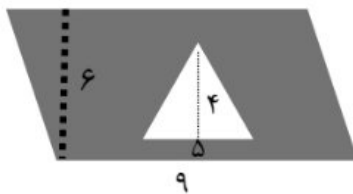
نام و نام خانوادگی

۱- با استفاده از گونیا در شکل های زیر از نقطه ی «آ» بر خط «ب» یک عمود رسم کنید..




۲- جاهای خالی را با کلمات مناسب کامل کنید.

- الف) در هر متوازی الاضلاع ، ضلع های روبرو با هم ..... و ..... هستند.
  - ب) اگر لوزی ..... برابر داشته باشد ، مربع است.
  - ج) هر مثلث ..... تا ارتفاع دارد.
  - د) به ضلعی که ارتفاع بر آن عمود شده است ، ..... می گویند.
- ۳- در شکل های زیر مساحت قسمت رنگی را به دست آورید.



۴- برای هر یک از شکل های زیر ارتفاع رسم کنید.



Handwriting practice lines in a rounded rectangular box.

