



موضوع:

تاریخ

نام و نام خانوادگی

هدف:

۸۶۷۵۴۹۳۱



با توجه به عدد مقابل، به سوال های زیر پاسخ دهید.  
الف) عدد داده شده را به حروف بنویسید.



- ب) بزرگ ترین رقم در چه مرتبه ای قرار دارد؟  
ج) رقم ۸ در کدام مرتبه قرار دارد؟  
د) رقم صدگان هزار آن چند است؟

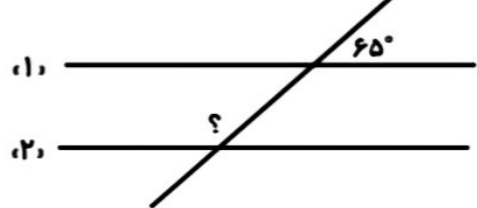
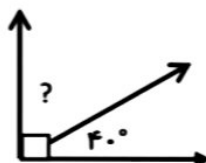
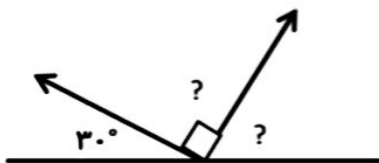
حاصل عبارت های زیر را به دست آورید.

الف)  $(4 \times \frac{5}{50}) + \frac{6}{25} =$

ب)  $(2 \times \frac{2}{5}) - (3 \times \frac{1}{5}) =$



اندازه ی هر کدام از زاویه های خواسته شده را بنویسید. (خط های ۱ و ۲ موازی هستند.)



بازخورد:

Handwriting practice area with a dashed border and several horizontal lines for writing.

