



موضوع:

تاریخ:

نام و نام خانوادگی:

هدف:

۱. اندازه ی زاویه های زیر را بنویسید.



درجه .....



درجه .....



درجه .....

۲. علامت  $\leq$  یا  $\geq$  بگذارید.

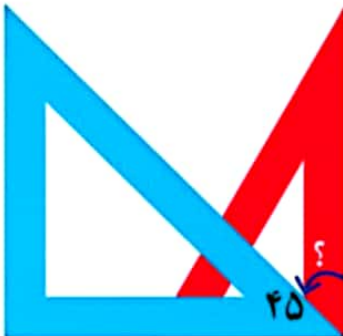
زاویه ی ۵۰ درجه  زاویه ی ۸۵ درجه

زاویه ی نیم صفحه  دو برابر زاویه ی راست

۳۰۰ ثانیه  ۵ دقیقه

زاویه ی تند  زاویه ی راست

۳. جمع و تفریق مربوط به هر شکل را انجام دهید.

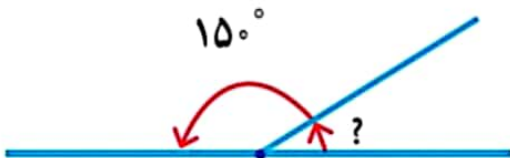


..... - ..... = .....

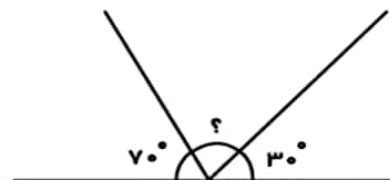


..... + ..... = .....

۴. اندازه ی زاویه های مورد نظر را بنویسید.



.....



.....

۵. یک زاویه ی راست را به دو قسمت تقسیم کرده ایم، اگر یکی از قسمت ها ۵۰ درجه باشد، قسمت دیگر چند درجه است؟



موضوع:

تاریخ:

نام و نام خانوادگی:

هدف:

۱. به حروف و رقم بنویس.

بیست و پنج و نه دهم .....  $72/5$  .....

۲. حاصل جمع و تفریق های زیر را به کمک محور پیدا کنید.



۳. به سوالات زیر با دقت پاسخ دهید.

الف)  $5/4$  لیتر چند تا  $0/1$  لیتر است؟ ..... ب) اختلاف  $3$  لیتر با  $1/6$  لیتر چقدر است؟ .....

ج) از یک توپ پارچه به طول  $12$  متر  $3/9$  متر را جدا کردیم. چند متر پارچه باقی می ماند؟ .....

د)  $42$  تا  $1/7$  متر ، چند متر می شود؟ .....

۴. عددهای زیر را به صورت اعشاری بنویسید.

$3/5 =$

$1/2 =$

$0/1$  تا  $31 =$

$0/1$  تا  $8 =$

۵. حاصل جمع و تفریق های زیر را به دست آورید.

$4/7 + 1/8$

$5/2 - 3/5$