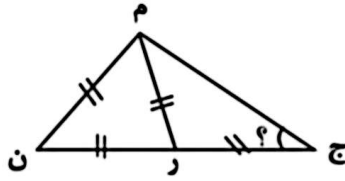


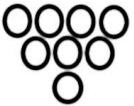
هدف:

	<p>درست</p> <input type="radio"/>	<p>نادرست</p> <input type="radio"/>	<p>۱- درست و نادرست بودن عبارت ها را مشخص کنید .</p> <p>(الف) دو خط عمود بر یک خط با هم موازی اند.</p> <p>(ب) مستطیل نوعی متوازی الاضلاع است که ضلع هایش برابر است.</p> <p>(ج) عدد ۸۵۶۹ بر ۹ بخش پذیر است .</p> <p>(د) برای تشخیص زاویه ی راست از گونیا استفاده می کنیم.</p>
	<input type="radio"/>	<input type="radio"/>	<p>۲- گزینه ی درست را انتخاب کنید .</p> <p>(الف) کدام گزینه ساده شده ی $\frac{14}{56}$ است ؟</p> <p style="text-align: center;"> <input type="radio"/> $\frac{1}{6}$ <input type="radio"/> $\frac{2}{7}$ <input type="radio"/> $\frac{2}{8}$ <input type="radio"/> $\frac{7}{8}$ </p> <p>(ب) کدام گزینه در مورد $2\frac{5}{7}$ صحیح نیست ؟</p> <p>هر واحد به ۷ قسمت مساوی تقسیم شده است. <input type="radio"/></p> <p>می توان آن را تبدیل به یک کسر بزرگ تر از واحد کرد. <input type="radio"/></p> <p>(ج) زنگ ورزش ساعت ۹:۲۵ شروع می شود و طول مدت زمان این زنگ ۵۰ دقیقه می باشد. اگر شیدا درست وسط کلاس برسد، او چه ساعتی به کلاس رسیده است؟</p> <p style="text-align: center;"> <input type="radio"/> ۱۰:۱۵ <input type="radio"/> ۱۰:۵۰ <input type="radio"/> ۹:۵۰ <input type="radio"/> ۹:۴۵ </p> <p>(د) اگر بخواهیم ۳۸۵۶۲ کیلوگرم را به تن تبدیل کنیم، کدام ارزش مکانی را باید تقریب بزنیم؟</p> <p style="text-align: center;"> <input type="radio"/> صدگان <input type="radio"/> یکان هزار <input type="radio"/> دهگان <input type="radio"/> دهگان هزار </p>
			<p>۳- در جاهای خالی عدد یا عبارت مناسب بنویسید .</p> <p>(الف) متوازی الاضلاع دارای ارتفاع است .</p> <p>(ب) ۸۱۹ دقیقه یعنی ساعت و دقیقه.</p> <p>(ج) چهار ضلعی که فقط دو ضلع موازی دارد ، نام دارد .</p> <p>(د) برای نمایش تغییرات ، از نمودار استفاده می شود.</p>
			<p>۴- ارتفاع متوازی الاضلاعی ۴۰ متر و مساحت آن ۱۸۰ متر مربع است . قاعده ی آن چند سانتی متر است؟</p>
			<p>۵- حاصل ضرب و تقسیم زیر را بدست آورید.</p> <div style="display: flex; justify-content: space-around; align-items: flex-end;"> <div style="text-align: center;"> $\begin{array}{r} 6793 \\ \times 47 \\ \hline \end{array}$ </div> <div style="text-align: center;"> $\begin{array}{r} 549 \\ \times 403 \\ \hline \end{array}$ </div> </div>

۶- اندازه ی زاویه های ؟ را پیدا کنید .



۷- با توجه به شکل زیر، مرحله ی پانزدهم از چند دایره تشکیل می شود؟



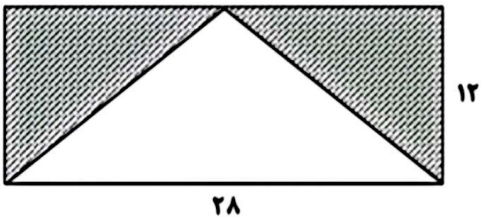
(۱)

(۲)

(۳)

۸- در یک شانه تخم مرغ، ۵ ردیف ۸ تایی تخم مرغ قرار دارد. $\frac{2}{5}$ تخم مرغ ها شکسته شد، چند تخم مرغ سالم مانده است؟

۹- مساحت قسمت رنگ شده را بدست آورید.



۱۰- حاصل عبارت های زیر را بدست آورید .

$$\left(7 \times \frac{1}{12}\right) - \left(2 \times \frac{1}{9}\right) =$$

$$29 - \frac{3}{6} + \frac{5}{2} =$$

۱۱- با توجه به اطلاعات مربوط به جرم ملینا در ۶ ماه، نمودار خط شکسته مربوط به آن را رسم کنید .

اسفند	بهمن	دی	آذر	آبان	مهر	جرم
۲۹	۲۸	۲۴	۲۶	۲۶	۲۵	اندازه

