



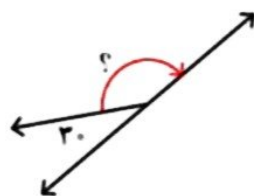
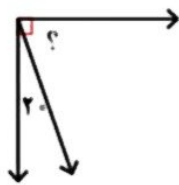
موضوع:

تاریخ

نام و نام خانوادگی

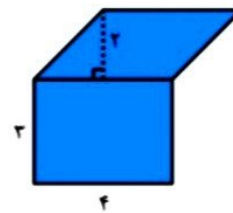
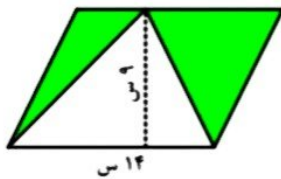
هدف:

۷. سارا ساعت ۶:۳۵ از خانه خارج شد و ساعت ۷:۵۵ به مدرسه رسید. او چند دقیقه در راه بوده است؟



۸. اندازه‌ی زاویه‌ی مورد نظر را به دست آورید.

۹. مساحت هر یک از شکل‌های زیر را به دست آورید.



بازخورد:

Handwriting practice area with four horizontal lines inside a dashed orange border.

