



نام و نام خانوادگی: _____ تاریخ: _____ موضوع: کاربرگ ریاضی هدف: _____

۱- جملات درست و نادرست را مشخص کنید .

- درست نادرست
- درست نادرست
- بین عدد ۵ و ۴ بی شمار عدد وجود دارد .
- کسره‌های با مخرج (۱۰) را می توان با اعشاری نشان داد .

۲- گزینه درست را با علامت × مشخص کن .

- حاصل (۲ - ۰ / ۲) برابر است با :

- ۲ / ۲ ۱ / ۸ ۰ / ۸ ۱ / ۲
- کدام گزینه نادرست است ؟
- ۴ < ۳ / ۵ ۵ / ۲ - ۱ / ۵ ۷ / ۲ > ۱ / ۲ ۱۲ / ۹ > ۱۲ / ۲

۳- اعداد زیر را به صورت اعشاری بنویسید .

- ۱ / ۵ - ۲۷ / ۱۰ - ۴۶ تا ۱ / - - ۸ تا ۱ / -

۴- برای پخت یک نوع شیرینی ۲ / ۴ لیتر شیر و ۱ / ۷ لیتر روغن را با آرد مخلوط کردیم روی هم چند لیتر شیر و روغن استفاده شده است ؟

۵- به کمک محور جمع و تفریق های زیر را بدست آورید ؟



۶- عدد مخلوط را به صورت اعشاری و عدد اعشاری را به صورت مخلوط یا کسر نشان بده

- $6 \frac{1}{2}$ $7 \frac{2}{5}$
- $12/5 -$ $0/8 -$

کاربرگ ریاضی

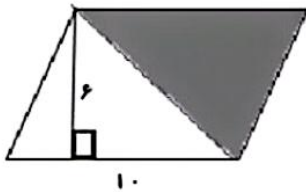
موضوع:

تاریخ

نام و نام خانوادگی

هدف:

۷- در شکل مقابل مساحت کل شکل و مساحت قسمت رنگی را حساب کنید.



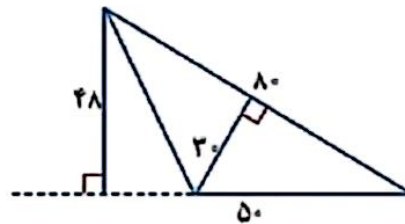
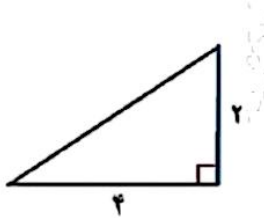
۸- عبارت های زیر را با دقت انجام دهید.

$$3851 \overline{) 15}$$

$$\begin{array}{r} 4 \\ -2/5 \\ \hline \end{array}$$

$$\begin{array}{r} 568 \\ \times 506 \\ \hline \end{array}$$

۹- مساحت شکل های زیر را محاسبه کنید.



۱۰- در عدد های زیر مرتبه رقم های مشخص شده را بنویس.

$$4 \underline{9} \underline{5} \underline{6} / \underline{9}$$

$$\underline{1} \underline{4} \underline{7} \underline{0} \underline{6} \underline{8} / \underline{2}$$

۱۱- عدد های زیر را به صورت اعشار بنویس.

سی و دو سه دهم -

پنج و چهار دهم -

۳۰ تا ۰/۱ -

۷۵ تا ۰/۱ -

۱۲- اگر فاصله بین ۷ و ۸ را به ۴ قسمت تقسیم کنیم چند عدد بین آنها پیدا می شود؟ آن ها را بنویسید.

۱۳- اتوبوسی در ساعت ۶:۳۰ صبح از تهران به طرف ساری حرکت کرد و در ساعت ۱۲:۲۵ به شهر ساری رسید. این

اتوبوس چه مدتی در راه بوده است؟