



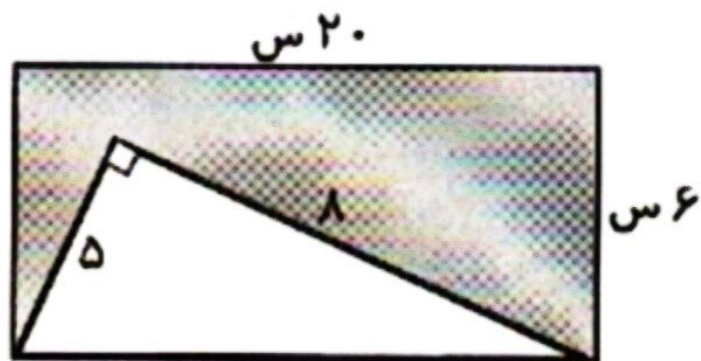
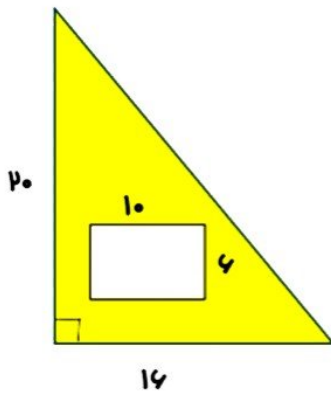
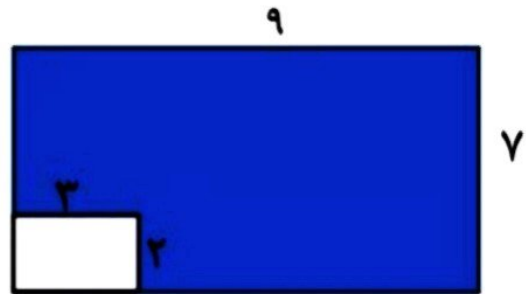
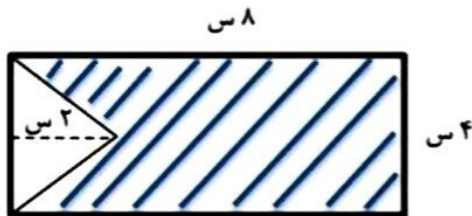
موضوع:

تاریخ

نام و نام خانوادگی

هدف:

مساحت قسمت رنگی را پیدا کنید.



بازخورد:

Four horizontal lines for writing feedback, enclosed in a dashed orange border.





موضوع:

تاریخ

نام و نام خانوادگی

هدف:

۵. حاصل ضرب و تقسیم‌های زیر را به دست آورید. به روش تکنیکی

$$\begin{array}{r} 427 \\ \times 302 \\ \hline \end{array}$$

$$\begin{array}{r} 7300 \\ \times 650 \\ \hline \end{array}$$

$$\begin{array}{r} 4735 \\ \overline{) 39} \end{array}$$

۶. عددهای زیر را با تقریب خواسته شده بنویسید.

عدد	تقریب در رقم دهگان	تقریب در رقم هزارگان
۴۳۸۶		
۱۷۹۴		

بازخورد:

