



موضوع:

تاریخ

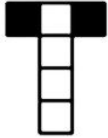
نام و نام خانوادگی

هدف:

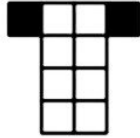
۲. ششمین شکل الگوی زیر از چند مربع تشکیل شده است؟ رابطه‌ی بین عددهای این الگو را

توضیح دهید.

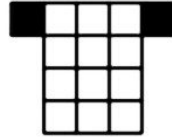
رابطه فقط نوشته شود



(۱)



(۲)



(۳)

۶۸۹۰۵۷۲۱۴

۳. با توجه به عدد مقابل به سؤالهای زیر پاسخ دهید.

- به حروف بنویسید.
- این عدد چند رقمی است؟
- بزرگترین رقم در چه مرتبه‌ای قرار دارد؟
- در بیشترین مرتبه چه رقمی دارد؟
- ارزش مکانی عدد ۷ را بنویسید
- رقم دهگان هزار آن چند است؟
- در کمترین مرتبه چه رقمی قرار دارد؟

۴. حاصل عبارت‌های زیر را به دست آورید.

$$\frac{4}{27} + \frac{2}{9} =$$

$$\left(4 \times \frac{2}{10}\right) - \frac{1}{5} =$$

$$8/7 - 2/5 + 1/4 =$$

$$3/9 + 2/4 - 4/8 =$$