



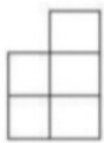
موضوع:

تاریخ:

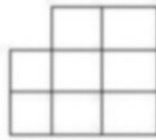
نام و نام خانوادگی:

هدف:

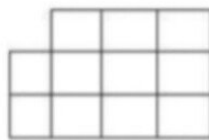
3) در الگوی مقابل شکل چهارم از چند دایره تشکیل شده است؟ فقط رابطه نوشته شود



1



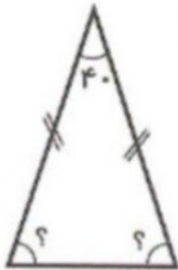
2



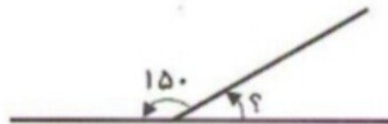
3

4

40



دون استفاده از نقاله اندازه ی زاویه های خواسته شده را محاسبه کن.



۱۱- رضا ۳۵۰ تومان پول داشت. او  $\frac{3}{5}$  پولش را خرج کرده است.

الف) چند تومان از پولش را خرج کرده است؟

ب) چقدر برایش باقی مانده است؟

تقسیم های زیر را انجام دهید

$$629 \overline{) 3}$$

$$343 \overline{) 5}$$

$$255 \overline{) 12}$$