



ریاضی
تمرین

موضوع:
هدف:

تاریخ

نام و نام خانوادگی

1 (جاهای خالی را با کلمات مناسب پر کنید .

وسيله ی اندازه گیری زاویه نام دارد .

زاویه ی نیم صفحه از دو زاویه ی تشکیل شده است .

هر متوازی الاضلاع ارتفاع دارد .

340521786

2 (با توجه به عدد مقابل به سوالات زیر پاسخ دهید .

الف (این عدد را به حروف بنویسید.

.....
.....

ب (عدد 8 در چه مرتبه ای قرار دارد ؟

ج (ارزش مکانی کدام عدد کمتر است ؟

د (رقم دهگان میلیون عدد چند است ؟

3 (عملیات مربوط به کسرهای زیر را انجام دهید .

مقایسه کنید .	جمع و تفریق کنید .
$\frac{5}{7} \bigcirc \frac{15}{21}$	$\frac{19}{100} + \frac{3}{50} =$
$\frac{0}{5} \bigcirc \frac{1}{5}$	$\frac{7}{10} - \frac{5}{20} =$
تا حد امکان ساده کنید .	
$\frac{32}{40} =$	$\frac{25}{40} =$
عملیات زیر را انجام دهید.	
	$(7 \times \frac{3}{16}) - (\frac{1}{4} + \frac{2}{4}) =$

.....
.....
.....





ریاضی
تمرین

تاریخ

نام و نام خانوادگی

هدف:

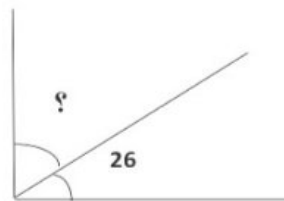
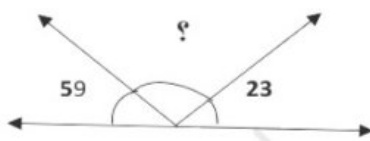
4) ضرب و تقسیم های زیر را انجام دهید.

$\begin{array}{r} 639 \\ \times 48 \\ \hline \end{array}$	$\begin{array}{r} 204 \\ \times 57 \\ \hline \end{array}$	$\begin{array}{r} 7345 \overline{) 35} \\ \hline \end{array}$
---	---	---

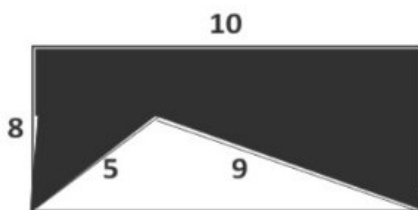
5) در شکل های زیر ارتفاع راس (ن) را رسم کنید.



6) در شکل های زیر اندازه ی زاویه های خواسته شده را بنویسید.



7) مساحت قسمت رنگی را در شکل مقابل به دست آورید.



بازجورد:

Blank lines for writing the answer to question 7.



موضوع: ریاضی

تاریخ:

نام و نام خانوادگی:

هدف: تمرین

8 (امیر علی شب یلدا $2/4$ کیلوگرم پسته و $1/2$ کیلوگرم مغز بادام خرید و آن ها را روی هم مخلوط کرد . او چند کیلوگرم آجیل خریده است ؟

9 (نمرات زیر ، نمرات ریاضی پرهام از ابتدای سال تحصیلی تا پایان اردیبهشت ماه را نشان

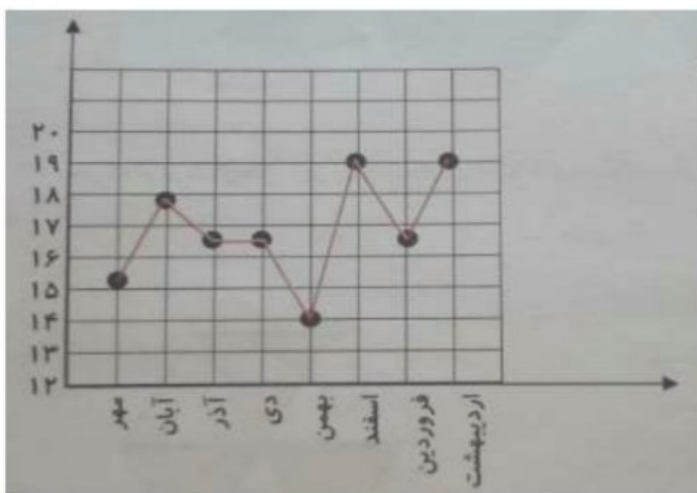
می دهد . با توجه به نمودار به سوالات زیر پاسخ دهید .

الف (در بین کدام دو ماه ، تغییرات بیشتر از همه بوده است ؟

ب (نمرات پرهام در کدام ماه ها کاهش داشته است ؟

ج (در بین کدام دو ماه ، نمرات پرهام تغییری نکرده است ؟

د (اختلاف بیشترین و کمترین نمره ی پرهام ، چند نمره بوده است؟



Blank space for writing answers.

