



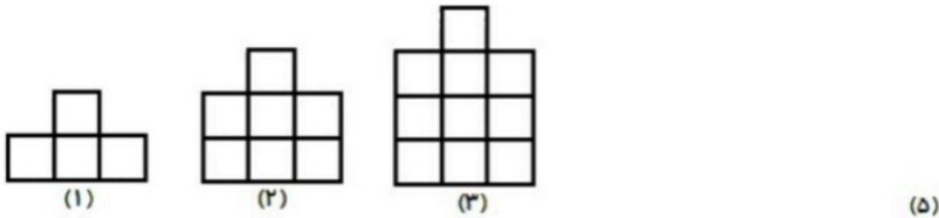
موضوع:

تاریخ:

نام و نام خانوادگی:

هدف:

۵. در الگوی زیر شکل پنجم از چند مربع تشکیل شده است؟



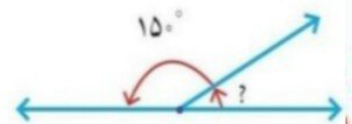
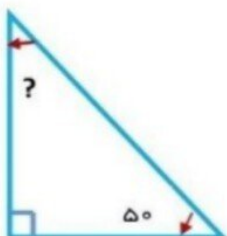
۱ زمانی را که ساعت روبه رو نشان می دهد به صورت یک عدد مخلوط بنویسید.

۶- ۵۰ دقیقه بعد از ساعت ۱۳:۴۰ را با کمک نمودار و روی ساعت نشان دهید.



۷- حمیده ساعت ۷:۵۰ دقیقه به مدرسه رسید اگر او با مدرسه ۳۵ دقیقه فاصله داشته باشد چه ساعتی از خانه خارج شده است؟

۸- با توجه به شکل اندازه ی زاویه های خواسته شده را بنویسید.





موضوع:

تاریخ

نام و نام خانوادگی

هدف:

۶- کسرهای زیر را ساده کنید.

$$\frac{24}{40} =$$

$$\frac{36}{48} =$$

$$\frac{27}{81} =$$

۷- دلارا $\frac{4}{15}$ از تکالیفش را دیروز و $\frac{2}{5}$ از تکالیفش را امروز انجام داده است. چه کسری از تکالیف او هنوز انجام نشده است؟

بازخورد:

