



موضوع:

تاریخ:

نام و نام خانوادگی:

کاربرگ دوره ای

هدف:

<p>۱ عدد چهارصد و دو میلیون و سیصد و چهارده هزار و هفتصد و هشتاد: الف) عدد بالا را به رقم بنویس. ب) چند رقمی است؟ ج) رقم صدگان هزار آن چند است؟</p>	<p>۱</p>
<p>۲ به جای مربع عدد مناسب بنویس.</p> $\frac{9}{\square} = \frac{3}{6}$ $\frac{\square}{7} = \frac{16}{28}$ $\frac{7}{8} = \frac{\square}{40}$ $\frac{6}{9} = \frac{2}{\square}$	<p>۲</p>
<p>۳ حاصل ضرب های زیر را بدست بیاور.</p> $\begin{array}{r} 1467 \\ \times 4 \\ \hline \end{array}$ $\begin{array}{r} 436 \\ \times 75 \\ \hline \end{array}$	<p>۳</p>
<p>۴ تقسیم زیر را انجام بده و باقی مانده و خارج قسمت را مشخص کن.</p> $7065 \overline{) 21}$ <p>باقی مانده خارج قسمت</p>	<p>۴</p>
<p>۵ کسر های داده شده را روی شکل نشان بده.</p> $\frac{3}{8}$ $\frac{4}{5}$	<p>۵</p>
<p>۶ ابتدا دور اعدادی که بر ۲ بخش پذیرند خط بکش و سپس زیر اعدادی که بر ۵ بخش پذیرند خط بکش.</p> <p>۱۸۹ - ۹۳۵ - ۷۸۳ - ۹۶۱ - ۶۷۰ - ۲۳۸</p>	<p>۶</p>
<p>۷ در یک زمین کشا ورزی $\frac{5}{12}$ گندم و $\frac{1}{6}$ زمین را جو کاشته اند. حساب کن چه کسری از زمین زیر کشت گندم و جو رفته است؟</p>	<p>۷</p>





موضوع:

تاریخ:

نام و نام خانوادگی:

هدف:

<p>اندازه زاویه های خواسته شده را بدست آورید.</p> 	<p>۸</p>
<p>یک دوندۀ دو دور زمین بازی که به شکل مستطیل بود دور زد، اگر طول این زمین ۸۵ متر و عرض آن ۳۴ متر باشد . حساب کن این دوندۀ چند متر دویدۀ است؟</p>	<p>۹</p>
<p>حاصل را بدست بیاور.</p> $\frac{3}{7} + \frac{5}{14} =$ $\frac{3}{4} + \frac{9}{20} =$ $\frac{3}{4} - \frac{3}{8} =$	<p>۱۰</p>
<p>مساحت قسمت رنگی را حساب کن.</p> 	<p>۱۱</p>



موضوع:

تاریخ:

نام و نام خانوادگی:

هدف:

با توجه به مبلغی که در جشن نیکوکاری به نیازمندان کمک شده است به سوالات پاسخ دهید .

۸۹۷۶۵۳۲۴۰

الف) عدد چند رقمی است ؟

ب) آن را به حروف بنویسید .

ج) رقم های طبقه هزار را بنویسید .

د) بزرگترین رقم در چه مرتبه ای قرار دارد ؟

الگو را ادامه دهید .

۲۱۷۰ - ۲۲۰۰ - ۲۹۹۰ - -



شکل (۱)



شکل (۲)

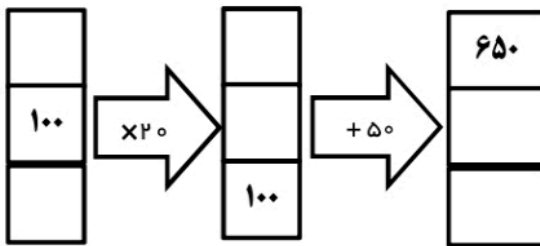


شکل (۳)

.....

شکل (۴)

در جای خالی عدد مناسب بنویسید .



$$۴۸۹۷۰ = \dots + ۸۰۰۰ + \dots + \dots$$

۱۰ تا صد هزار تایی می شود

عددها را با هم مقایسه کنید و علامت $<$ $=$ $>$ بگذارید .

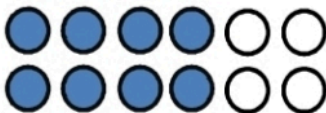
$$۳۰۰ \times ۳۰ \bigcirc ۴۰ \times ۳۰۰$$

$$۶۹۷۵۳۴۰ \bigcirc ۴۹۷۵۳۴۰$$

$$\frac{1}{۴} \bigcirc \frac{۲}{۱۲}$$

$$\frac{۳}{۱۲} \bigcirc \frac{۳}{۱۹}$$

برای شکل ، ۳ کسر مساوی بنویسید .



$$\frac{\quad}{\quad} = \frac{\quad}{\quad} = \frac{\quad}{\quad}$$

بزرگترین عدد ۷ رقمی غیر تکراری را بنویسید که فرد باشد و یکان و دهگان هزار آن صفر باشد .

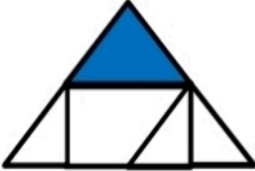
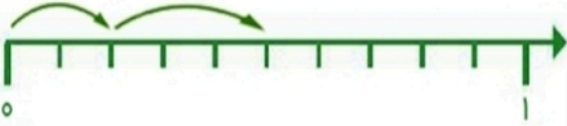
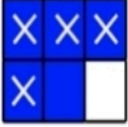


موضوع:

تاریخ:

نام و نام خانوادگی:

هدف:

<p>در جای خالی عدد مناسب بنویسید .</p> $\frac{5}{7} = \frac{\bigcirc}{49}$ $\frac{9}{15} = \frac{3}{\bigcirc}$ $\frac{\bigcirc}{10} = \frac{\bigcirc}{\bigcirc}$	<p>۷</p>
<p>کسر رنگی مربوط به شکل روبرو کدام است ؟</p>  <p> <input type="radio"/> الف) $\frac{1}{5}$ <input type="radio"/> ب) $\frac{2}{8}$ <input type="radio"/> ج) $\frac{1}{6}$ </p>	<p>۸</p>
<p>جمع یا تفریق مربوط به هر شکل را بنویسید .</p>  	<p>۹</p>
<p>کشاورزی $\frac{3}{6}$ مزرعه ی خود را گل آفتابگردان و $\frac{3}{18}$ آن را گل رز کاشته است .</p> <p>الف) چه کسری از زمین را گل کاشته است ؟</p> <p>ب) چه کسری از زمین بدون کشت مانده است ؟</p>	<p>۱۰</p>
<p>مریم روزی $\frac{3}{20}$ کتاب داستانش را مطالعه می کند . او پس از ۵ روز چه کسری از کتاب را مطالعه کرده است ؟</p>	<p>۱۱</p>