



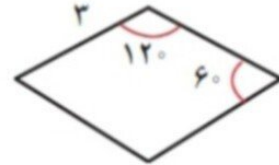
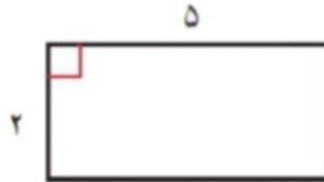
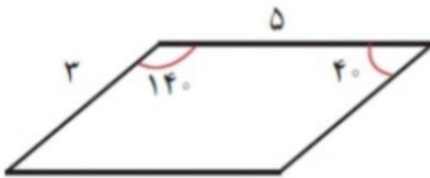
موضوع:

تاریخ:

نام و نام خانوادگی:

هدف:

۵- در هر شکل، اندازه ی بقیه ی ضلع ها و زاویه ها را پیدا کنید:



ضرب و تقسیم انجام دهید

$$\begin{array}{r} 413 \\ \times 25 \\ \hline \end{array}$$

$$\begin{array}{r} 463 \\ | 21 \\ \hline \end{array}$$

$$\begin{array}{r} 4735 \\ | 39 \\ \hline \end{array}$$

۵. عددهای زیر را به صورت اعشاری بنویسید.

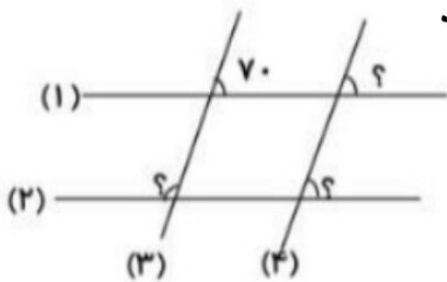
$$\frac{2}{5} =$$

$$\frac{1}{2} =$$

$$= \frac{31}{10}$$

$$= \frac{8}{10}$$

خط ۱ و ۲ با هم موازیند و خط ۳ و ۴ با هم موازیند
؟ را پیدا کنید



بازخورد:

Blank space for feedback with horizontal lines.





موضوع:

تاریخ

نام و نام خانوادگی

هدف:

علی ساعت ۱۸:۱۵ دقیقه شروع به درس خواندن می کند و ساعت ۲۰:۳۵ دقیقه به پایان می رسد، چه مدت زمانی علی درس خوانده است؟

۷۳ ساعت یعنی دقیقه.

۲۸۹۰ دقیقه یعنی ساعت و دقیقه.

۷۳۰۰ ساعت چند روز می شود؟

۱. امید بار اول با دو چرخه اش $\frac{4}{10}$ و بار دوم $\frac{2}{10}$ و بار سوم $\frac{1}{10}$ از راهی را پیمود.

(الف) او چه کسری از راه را پیموده است؟

(ب) چه کسری از راه باقی مانده است؟

(شکل بکشید)

باز خورد:

Blank area for drawing or writing.

