

کوچکترین عدد ۹ رقمی بدون تکرار؟

اختلاف کوچکترین عدد پنج رقمی و  
بزرگترین عدد چهار رقمی؟

۱۴۵۶ روز چند ساعت است؟

ربع عدد ۲۴ و ثلث عدد ۲۷ و خمس عدد  
۱۰۰ را حساب کن؟

عدد ۱۹۰۶۵ به طور تقریبی به عدد .....  
نزدیک تر است (۹۰۰۰۰ - ۱۹۰۰۰)

کوچکترین عدد شش رقمی و بزرگترین  
عدد چهار رقمی را با هم جمع کن ؟

۲۶۵۴ روز چند ساعت است ؟

ربع، ثلث، نصف عدد ۱۲۰۰ حساب کن ؟

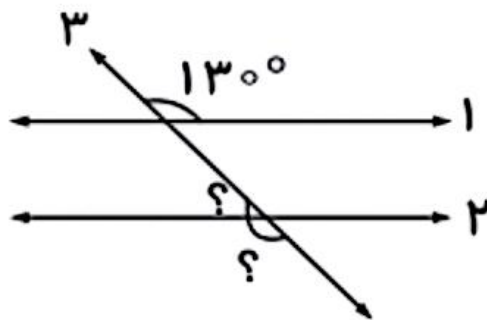
عبارت زیر را بدست آور

$$130.4$$

$$\times 54$$

---

اندازه ی قسمت خواسته شده را بدست بیاور .



احمد ساعت ۲۰:۴۲ سوار مترو شد و ۵۰ دقیقه بعد به خانه رسید او چه ساعتی به خانه رسید ؟

پوریا می خواهد ۲۴ شیرینی را بین ۴ بزرگسال و ۳ کودک تقسیم کند به طوری که به بزرگترها ۲ شیرینی و به کوچکترها ۱ شیرینی، داده شود ؟  
چه مقدار شیرینی خورده شده ؟  
چه کسری باقی مانده ؟

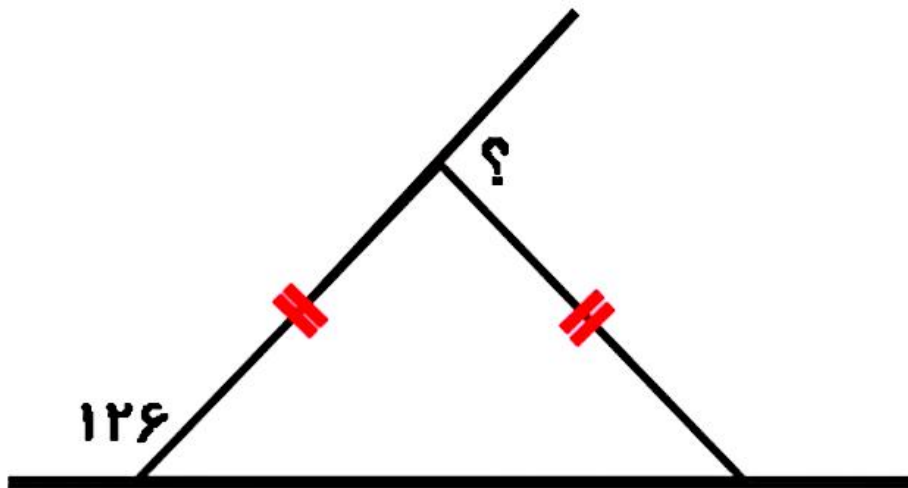
قطار تهران به اصفهان ساعت ۱۳:۱۶ تهران  
را ترک کرد و ۴۰ دقیقه بین راه توقف  
داشت و ۴ ساعت بعد از توقف به اصفهان  
رسید این قطار ساعت چند به اصفهان  
رسید؟

می خواهند دور تا دور زمین بازی کودکان  
را که به طول ۳۴ متر و عرض ۱۵ متر را  
نرده بزنند حساب کن چند متر نرده لازم  
دارند؟

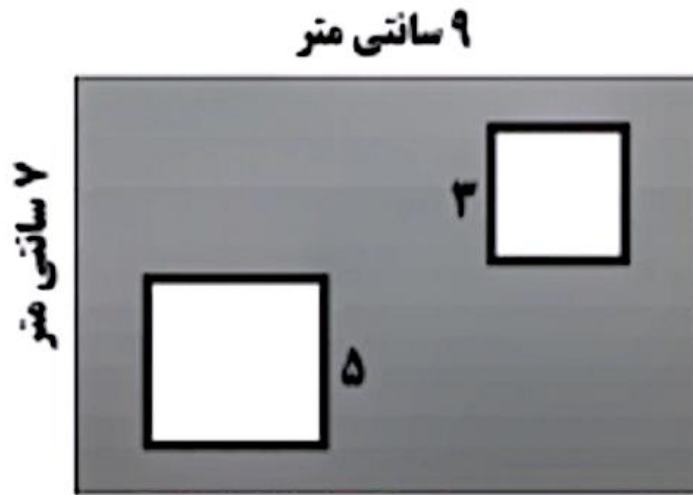
عبارت زیر را بدست آور

$$4678 \mid \underline{35}$$

اندازه ی قسمت خواسته شده را بدست بیاور .



# مساحت قسمت رنگی را بدست آور



اعداد زیر را به کسر بنویس

$$\frac{3}{5} =$$

$$\frac{6}{7} =$$

$$\frac{17}{9} =$$

برای ساعت ۶:۴۰ عدد مخلوط بنویس