




فعالیت کلاسی

با توجه به جدول فرضی پیش رو، قیمت هر یک از اقلام را به تومان، دلار آمریکا و یورو محاسبه کنید.

ارزش (تومان)	ارز
۱۰۰۰۰	دلار آمریکا
۱۵۰۰۰	یورو

یورو	دلار آمریکا	تومان	کالا
	۶		
		۹۰۰۰۰	
۱۰			

فعالیت منزل

با پرسوجو از بزرگترها و جستوجو در اینترنت، با توجه به قیمت روز ارزهای رایج آمریکا و اروپا قیمت هر یک از کالاهای خواسته شده را به دست آورید.

ردیف	کالا	ارزش	واحد پول
۱	قیمت بنزین در آلمان		
۲	قیمت یک کیلو گوشت در آمریکا		
۳	قیمت متوسط خودروی پراید در ایران		
۴	قیمت متوسط خودروی BMW در آلمان		
۵	قیمت یک بطری آب معدنی بزرگ در ایران		
۶	قیمت یک بطری آب معدنی بزرگ در آلمان		
۷	قیمت یک بطری آب معدنی بزرگ در آمریکا		



به صفحه‌ی مقابل با دقت نگاه کنید. با توجه به اطلاعات داده شده مناسبترین تلفن همراه را انتخاب کنید.

مقدار پول: ۱۳/۰۰۰/۰۰۰ تومان

* تمام قیمت‌ها به تومان می‌باشند.

با توجه به موارد ذکر شده شما کدام کالا را خریداری می‌کنید؟ چرا؟

.....
.....

آیا پیشنهاد دیگری برای خرید این کالا دارید؟ بیان کنید.

.....
.....



پیشنهاد ۳

قیمت

۱۳/۰۰۰/۰۰۰

کشور سازنده

کره

محل خریداری

نمایندگی

خدمات پس از فروش

دارد



پیشنهاد ۱

قیمت

۲/۸۰۰/۰۰۰

کشور سازنده

چین

محل خریداری

سایت اینترنتی

خدمات پس از فروش

ندارد



پیشنهاد ۴

قیمت

۱۵/۰۰۰/۰۰۰

کشور سازنده

کره

محل خریداری

بازار موبایل

خدمات پس از فروش

در موارد محدود دارد



پیشنهاد ۲

قیمت

۹/۰۰۰/۰۰۰

+ کالای هدیه (قاب رایگان)

کشور سازنده

چین

محل خریداری

بازار موبایل

خدمات پس از فروش

در موارد محدود دارد

فعالیت منزل

با کمک بزرگترها و جست‌وجو در اینترنت لیستی از قیمت‌ها و مشخصات یک دوچرخه را بیان کنید.

ردیف	نوع دوچرخه	قیمت	مشخصات
۱			
۲			
۳			