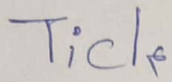
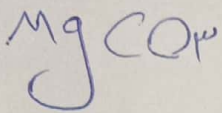


تاریخ: ۲۵، ۳، ۲۰۲۰

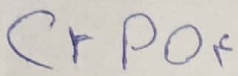
۱- نام و فرمول سه جامد زیر را بنویسید



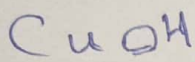
تیانیم ربید



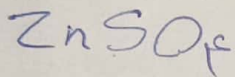
کلم سترات



کروم پوسفات

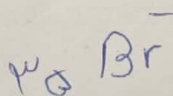
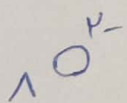

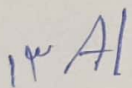
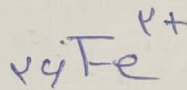
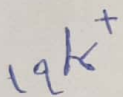


کوپر (I) هیدروکسید

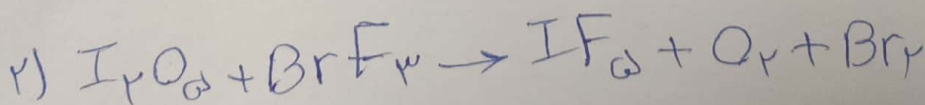
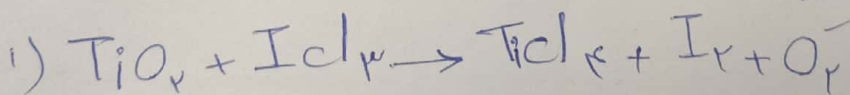


زنک سولفات

۲- کرایس الکترولیز آنها و یونهای زیر را بنویسید. (فشرده)



۳- واکنش های زیر را موازنه کنید.



موفق باشید