


# کتاب کار علوم علوی

صفحات ۴۰ تا ۴۷



۱. به عکس‌ها با دقت نگاه کن، کدامیک از عکس‌های زیر جاندار هستند؟ روی آن‌ها علامت بزن.




۱. به عکس‌ها با دقت نگاه کن، کدامیک از عکس‌های زیر جاندار هستند؟ روی آن‌ها علامت بزن.





۲. تصویر دو جاندار را در کادر زیر بکش یا بچسبان که در عکس‌های بالا نباشد.



۲. تصویر دو جاندار را در کادر زیر بکش یا بچسبان که در عکس‌های بالا نباشد.



۳. دور آن‌هایی که زنده‌اند و پرواز می‌کنند را خط آبی و آن‌هایی که غیرزنده‌اند و پرواز می‌کنند را خط قرمز بکش.



۴. درنا به برنا گفت: در مورد بدن جانوران و تعداد پاهای آن‌ها چه می‌دانی؟ آیا همه‌ی جانوران پا دارند؟ یک جانور دویا نام ببر و تصویرش را این‌جا بکش یا بچسبان.







۳. دور آن‌هایی که زنده‌اند و پرواز می‌کنند را خط آبی و آن‌هایی که غیرزنده‌اند و پرواز می‌کنند را خط قرمز بکش.



۴. درنا به برنا گفت: در مورد بدن جانوران و تعداد پاهای آن‌ها چه می‌دانی؟ آیا همه‌ی جانوران پا دارند؟ یک جانور دویا نام ببر و تصویرش را این‌جا بکش یا بچسبان.




۵. آیا همه‌ی جانوران پا دارند؟ جانوری را می‌شناسی که پا نداشته باشد؟ این‌جا یک جانور بدون پا بکش که در آب زندگی می‌کند. به نظر شما این جانور چگونه بدون پا حرکت می‌کند؟





۵. آیا همه‌ی جانوران پا دارند؟ جانوری را می‌شناسی که پا نداشته باشد؟ این جا یک جانور بدون پا بکش که در آب زندگی می‌کند. به نظر شما این جانور چگونه بدون پا حرکت می‌کند؟



۶. یک جانور بکش که مثل حلزون حرکت می کند.



۶. یک جانور بکش که مثل حلزون حرکت می کند.






۷. تصویر دو جانور را رسم کن یا بچسبان که مثل هم غذا می‌خورند.



۷. تصویر دو جانور را رسم کن یا بچسبان که مثل هم غذا می‌خورند.



۸. در شکل زیر دور پرندگان خط بکش.





۸. در شکل زیر دور پرندگان خط بکش.



۹. در شکل زیر غذاهای بعضی از جانوران آمده است که ما هم از آنها استفاده می‌کنیم. دور غذاهایی که بین


جانور و انسان مشترک است خط بکش. بگو هر غذا، خوراک کدام جانور است؟





۹. در شکل زیر غذاهای بعضی از جانوران آمده است که ما هم از آنها استفاده می‌کنیم. دور غذاهایی که بین جانور و انسان مشترک است خط بکش. بگو هر غذا، خوراک کدام جانور است؟

ماهی



خرس



گاو



خرگوش





۱۰. آیا تا به حال به جانوری غذا داده‌ای؟

آیا می‌دانی در زمستان که هوا سرد است پرندگان بیشتر به دنبال غذا هستند و حتی برخی از آن‌ها از جایی به جای دیگر کوچ می‌کنند؟ بهتر است ما مقداری غذا در پشت‌بام یا حیاط خانه برای پرندگان بگذاریم. حالا در کادر زیر تصویر یک پرنده را بکش یا بچسبان که مهاجرت می‌کند.



۴۴

مادر برنا همیشه وقتی خرده‌های نان و غذایی را که مانده، در گوشه‌ای از حیاط خانه می‌ریزد تا پرندگان از آن استفاده کنند.

۱۱. فایده‌ی هر جانور را به خودش وصل کن.




۱۱. فایده‌ی هر جانور را به خودش وصل کن.

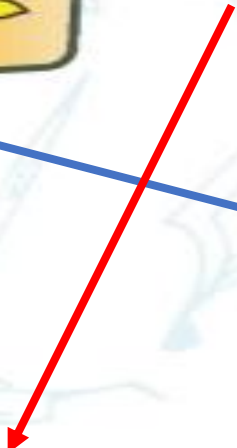




۱۲. در مورد حرکت جانوران زیر توضیح بده و آن‌هایی را که مثل هم حرکت می‌کنند به هم وصل کن.



۱۲. در مورد حرکت جانوران زیر توضیح بده و آنهایی را که مثل هم حرکت می کنند به هم وصل کن.





۱۳. در کدام یک از موقعیت‌های زیر مار به ما فایده می‌رساند؟ علامت بزن.





۱۳. در کدام یک از موقعیت‌های زیر مار به ما فایده می‌رساند؟ علامت بزن.



۱۴. درنا به برنا گفت: بعضی جانوران مراحل رشد طولانی و چند مرحله‌ای دارند. مراحل رشد جانوران زیر را به ترتیب شماره گذاری و در مورد آن‌ها صحبت کن.



۱۴. درنا به برنا گفت: بعضی جانوران مراحل رشد طولانی و چند مرحله‌ای دارند. مراحل رشد جانوران زیر را به ترتیب شماره گذاری و در مورد آن‌ها صحبت کن.



۱



۳



۲



۴



۳



۱



۴



۲



۱



۴



۵



۳



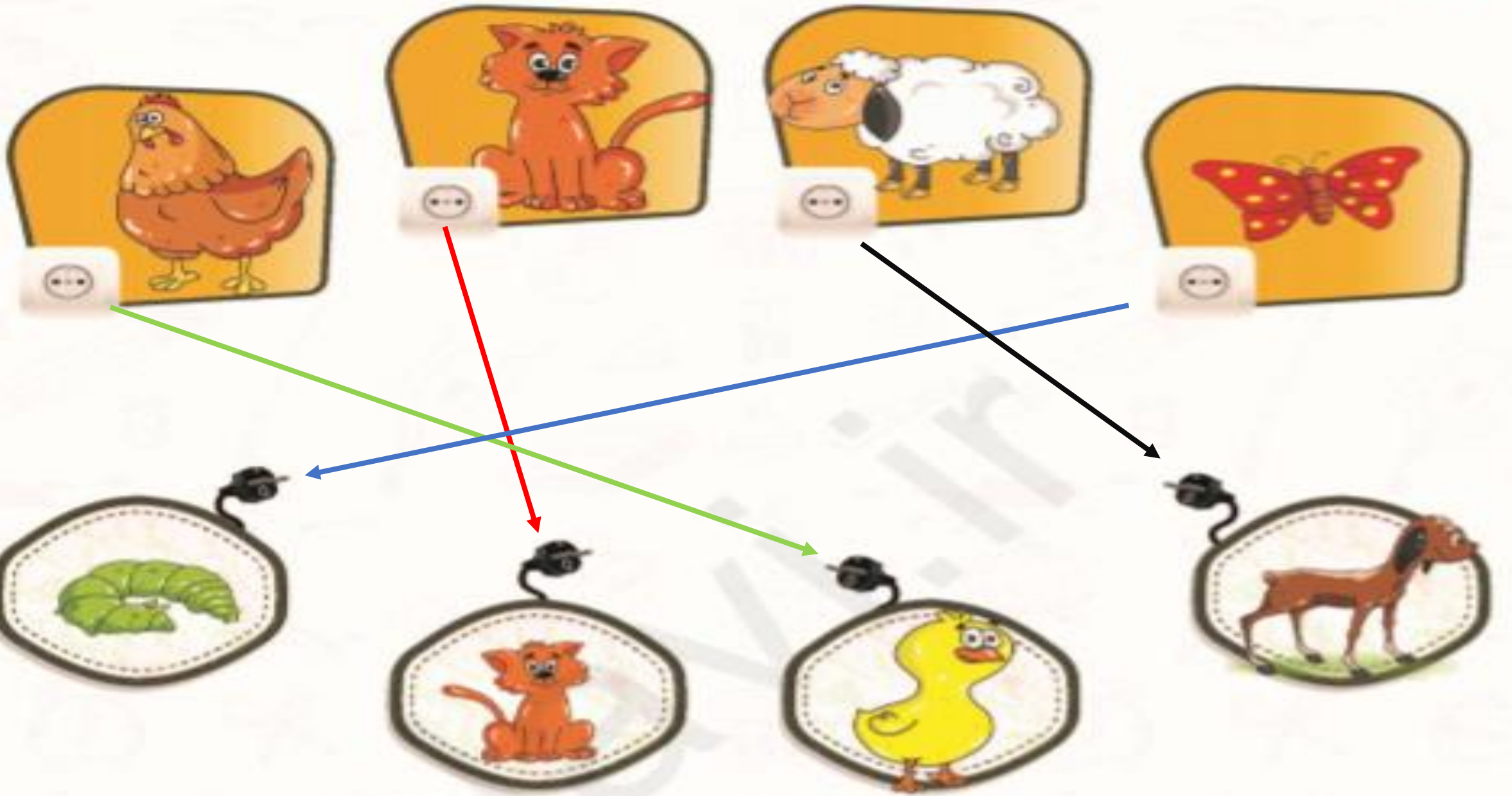
۲



۱۵. هر جانور را به بچه‌ی خودش وصل کن.



۱۵. هر جانور را به بچه‌ی خودش وصل کن.



دبستان علوی

# خسته نباشی عزیزم

