

کتاب کار علوم علوی
صفحات ۱۰۵ تا ۱۱۱



۱. کدامیک از وسایل زیر برای حرکت نیاز به هوا دارند؟ علامت بزن.



۲. وسایلی که هوا را جابه‌جا می‌کنند را علامت بزن.



۱. کدام یک از وسایل زیر برای حرکت نیاز به هوا دارند؟ علامت بزن.



۲. وسایلی که هوا را جابه‌جا می‌کنند را علامت بزن.



۳. کدامیک از موارد زیر نیاز به هوا دارند؟ علامت بزن.



۳. کدامیک از موارد زیر نیاز به هوا دارند؟ علامت بزن.



۴. کدام یک با جابه‌جایی هوا خاموش می‌شوند؟ علامت بزن.



۵. کدام یک هوا را آلوده می‌کند دور آن خط بکش.



۴. کدام یک با جابه جایی هوا خاموش می شوند؟ علامت بزن.



۵. کدام یک هوا را آلوده می کند دور آن خط بکش.



۶. مواردی که باعث آلودگی هوا نمی‌شوند علامت بزن.




۷. کدام تصویر سبب انتقال بیماری می‌شود؟ علامت بزن.



۶. مواردی که باعث آلودگی هوا نمی‌شوند علامت بزن.



۷. کدام تصویر سبب انتقال بیماری می‌شود؟ علامت بزن.




۸. هر کدام از وسایل زیر در کجا حرکت می کنند؟ آن را به تصویر مربوطه وصل کن.




۸. هر کدام از وسایل زیر در کجا حرکت می کنند؟ آن را به تصویر مربوطه وصل کن.



۱. برنا می‌خواهد به اسکی برود. او برای این کار از چه لباس‌هایی باید استفاده کند؟ چرا؟ رنگ بزن.



۱. برنا می‌خواهد به اسکی برود. او برای این کار از چه لباس‌هایی باید استفاده کند؟ چرا؟ رنگ بزن.



۲. تا به حال به چه شهرهایی سفر کرده‌ای؟

آب و هوای آن شهرها چطور بوده است؟

به نظر شما در هر فصل همه استان‌ها آب و هوای یکسانی دارند؟ چرا؟



۳. درنا دو لباس سفید و سیاه به برنا داد و گفت: به نظر تو کدام یک از لباس‌های زیر برای پوشیدن در زمستان

مناسب است؟ چرا؟

در تابستان و فصل گرما کدام یک برای پوشیدن مناسب‌تر است؟ چرا؟



۳. درنا دو لباس سفید و سیاه به برنا داد و گفت: به نظر تو کدام یک از لباس‌های زیر برای پوشیدن در زمستان

مناسب است؟ چرا؟

سیاه، زیرا نور خورشید را به خود می‌گیرد.

در تابستان و فصل گرما کدام یک برای پوشیدن مناسب‌تر است؟ چرا؟

سفید، زیرا نور و گرما را به خود جذب نمی‌کند.



۴. درنا تعدادی لباس با رنگ‌های مختلف را جدا کرد و به برنا گفت: کدام یک از لباس‌های زیر را اگر دور بطری

یخ پیچی، یخ داخل بطری دیرتر آب می‌شود؟ علامت بزن.



برای درست کردن یخ از چه وسیله‌ای استفاده می‌کنیم؟

چطور می‌توانیم یک نوشیدنی را خنک نگه داریم؟

نوشیدنی‌ها و خوردنی‌های سرد و خنک بیش‌تر در چه فصلی از سال استفاده می‌شود؟

زمانی که یک بطری یخ داریم و می‌خواهیم آن را به آب تبدیل کنیم بهتر است بطری را در کجا قرار دهیم

تا یخ زودتر آب شود؟



۴. درنا تعدادی لباس با رنگ‌های مختلف را جدا کرد و به برنا گفت: کدام یک از لباس‌های زیر را اگر بطری یخ پیچی، یخ داخل بطری دیرتر آب می‌شود؟ علامت بزن.



برای درست کردن یخ از چه وسیله‌ای استفاده می‌کنیم؟

آب و بطری و فریزر

چطور می‌توانیم یک نوشیدنی را خنک نگه داریم؟

دور ظرف را با لباس رنگ روشن بپوشانیم و یا در یخچال نگه داریم.

تابستان

نوشیدنی‌ها و خوردنی‌های سرد و خنک بیش‌تر در چه فصلی از سال استفاده می‌شود؟

زمانی که یک بطری یخ داریم و می‌خواهیم آن را به آب تبدیل کنیم بهتر است بطری را در کجا قرار دهیم

تا یخ زودتر آب شود؟

زیر نور خورشید یا کنار بخاری و یا شوفاز



۵. چه وسیله‌هایی گرما ایجاد می‌کنند؟ یکی از آنها را این‌جا نقاشی کن.



۶. کادر لباس‌های مناسب هوای گرم را قرمز و کادر لباس‌های مناسب هوای سرد را آبی کن.



۶. کادر لباس‌های مناسب هوای گرم را قرمز و کادر لباس‌های مناسب هوای سرد را آبی کن.



آفرین بر دانشمندان کوچک