



کتاب کار علوم علوی صفحه
119 و 123

درس یازدهم

۱. وسایل گرم را رنگ کن و وسایل سرد را خط بزن.



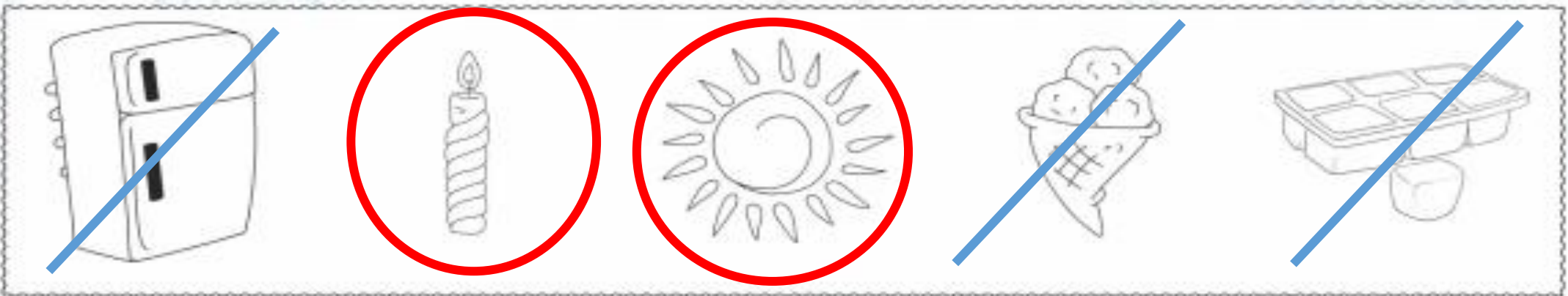
۲. چه رنگی مناسب فصل زمستان است؟ علامت بزن.




۳. کدام تصویر هم نور و هم گرمای زیاد تولید می کند؟ رنگ بزن.



۱. وسایل گرم را رنگ کن و وسایل سرد را خط بزن.



۲. چه رنگی مناسب فصل زمستان است؟ علامت بزن.



۳. کدام تصویر هم نور و هم گرمای زیاد تولید می کند؟ رنگ بزن.



۴. برای گرم کردن خانه از چه وسایلی استفاده می‌شود؟ علامت بزن.



۵. آدم برفی کدام یک را دوست ندارد؟ دور آن خط بکش.



۴. برای گرم کردن خانه از چه وسایلی استفاده می‌شود؟ علامت بزن.



۵. آدم برفی کدام یک را دوست ندارد؟ دور آن خط بکش.



۶. خانواده‌ی درنا و برنا برای گردش به پارک رفته‌اند، آن‌ها می‌خواهند غذای خود را گرم کنند، از کدام یک از وسایل زیر می‌توانند استفاده کنند؟ علامت بزن.



۷. بچه‌های مدرسه در یک روز سرد، به اردوی کوهستان رفته بودند و دوست داشتند چیزی بخورند، خوراکی‌های مناسب را برای آن‌ها رنگ بزن.



۶. خانواده‌ی درنا و برنا برای گردش به پارک رفته‌اند، آن‌ها می‌خواهند غذای خود را گرم کنند، از کدام یک از

وسایل زیر می‌توانند استفاده کنند؟ علامت بزن.



۷. بچه‌های مدرسه در یک روز سرد، به اردوی کوهستان رفته بودند و دوست داشتند چیزی بخورند، خوراکی‌های

مناسب را برای آن‌ها رنگ بزن.




۸. کادر جانورانی که در جاهای گرم زندگی می کنند را قرمز و کادر جانورانی که در جاهای سرد زندگی می کنند

را آبی کن.



۱۲۰

۹. لباس مناسب هر فصل را به فصل خود وصل کن.





۸. کادر جانورانی که در جاهای گرم زندگی می کنند را قرمز و کادر جانورانی که در جاهای سرد زندگی می کنند

را آبی کن.



۱۲۰

۹. لباس مناسب هر فصل را به فصل خود وصل کن.



۱. آیا تا به حال دقت کرده‌ای که برای رفتن به مدرسه از چه مسیرهایی عبور می‌کنی؟

این بار به مسیر با دقت نگاه کن و بگو از چه جاهایی عبور کردی؟ و چه چیزهایی دیدی؟

در ناهنجاری عکس از مسیر خانه تا مدرسه‌ی دوستان برنارانشان داد. مسیر مدرسه تا منزل شما کدام است؟ علامت بزن.



★ از شکل‌های بالا کدام مسیر راحت‌تر است؟

★ از شکل‌های بالا کدام مسیر سخت‌تر است؟

۱. آیا تا به حال دقت کرده‌ای که برای رفتن به مدرسه از چه مسیرهایی عبور می‌کنی؟

این بار به مسیر با دقت نگاه کن و بگو از چه جاهایی عبور کردی؟ و چه چیزهایی دیدی؟

در ناهنجاری عکس از مسیر خانه تا مدرسه‌ی دوستان برنارانشان داد. مسیر مدرسه تا منزل شما کدام است؟ علامت بزن.



★ از شکل‌های بالا کدام مسیر راحت‌تر است؟ 4

★ از شکل‌های بالا کدام مسیر سخت‌تر است؟ 3

۲. درنا به برنا گفت: به تصاویر زیر با دقت نگاه کن و بنویس در هر کدام برای حرکت، از چه چیزهایی استفاده می‌شود؟



۳. به وسایل زیر با دقت نگاه کن و بنویس چه چیزی در وسایل زیر حرکت را آسان کرده است؟



۲. درنا به برنا گفت: به تصاویر زیر با دقت نگاه کن و بنویس در هر کدام برای حرکت، از چه چیزهایی استفاده می‌شود؟



چرخ



پر



پا

۳. به وسایل زیر با دقت نگاه کن و بنویس چه چیزی در وسایل زیر حرکت را آسان کرده است؟



چرخ



چرخ



چرخ

۴. اگر چرخ نبود چه اتفاقی می افتاد؟

دو اسباب بازی چرخ دار زیر را نگاه کن. کدام راحت تر حرکت می کند؟ چرا؟ علامت بزن.



۵. آیا وسیله دیگری را می شناسی که به کمک چرخ حرکت کند؟ یک مورد بکش.



۴. اگر چرخ نبود چه اتفاقی می افتاد؟

دو اسباب بازی چرخ دار زیر را نگاه کن. کدام راحت تر حرکت می کند؟ چرا؟ علامت بزن.



۵. آیا وسیله دیگری را می شناسی که به کمک چرخ حرکت کند؟ یک مورد بکش.



۶. انسان از گذشته تا به حال برای حرکت از روش‌های گوناگونی استفاده کرده است. به ترتیب آن‌ها را

شماره‌گذاری کن.

حرکت در خشکی 



۶. انسان از گذشته تا به حال برای حرکت از روش‌های گوناگونی استفاده کرده است. به ترتیب آن‌ها را

شماره‌گذاری کن.

حرکت در خشکی 



3



4



2



1



A collection of autumn leaves in various colors (red, orange, yellow, brown) scattered on a light blue wooden surface. The leaves are arranged in a way that suggests they have fallen from a tree. The text 'موفق باشيد' is centered in the middle of the image.

موفق باشيد