







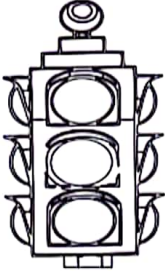
















نام آموزگار:

نام کلاس:

نام و نام خانوادگی:

بارم	سؤالات علوم اول دبستان (صفحه اول)	ردیف
۱ نمره	<p>کدام یک نه مزه دارد و نه بو؟ علامت بزن.</p>  <input type="checkbox"/>  <input type="checkbox"/>  <input type="checkbox"/>	۱
۱ نمره	<p>کدام یک زیر آب نمی رود؟ دور آن خط بکش.</p>    	۲
۱/۵ نمره	<p>کدام یک از تصاویر زیر، موجود زنده هستند؟ آن ها را رنگ بزن.</p>     	۳
۱/۵ نمره	<p>هر جانور را به غذایش وصل کن.</p>    <input type="radio"/> <input type="radio"/> <input type="radio"/> <input type="radio"/> <input type="radio"/> <input type="radio"/>   	۴



بارم	سؤالات علوم اول دبستان (صفحه دوم)	ردیف
۱/۵ نمره	دور جانوران مفید، با مداد سبز و دور جانوران غیر مفید، با مداد قرمز خط بکش. 	۵
۱ نمره	پسرم با توجه به نور خورشید سایه درست را رنگ بزن. 	۶
۱ نمره	کدام تصاویر بهداشت فردی را نشان می‌دهند؟ علامت بزن. 	۷
۱ نمره	چه جانوری حس بینایی قوی دارد؟ دور آن خط بکش. 	۸
۱ نمره	کدام جانوران هنگام راه رفتن روی زمین می‌خزند؟ دور آن‌ها خط بکش. 	۹

بسمه تعالی

آموزش و پرورش شهر ..... منطقه .....

دبستان غیردولتی علوی

آزمون پایان نیمسال اول
















علوی

مکث پاسخ گویی  
۴۵ دقیقه

علوم اول دبستان

تاریخ برگزاری: .....

بارم	سؤالات علوم اول دبستان (صفحه سوم)	ردیف
۲/۵ نمره	<p>جانورانی که مثل هم حرکت می کنند را به هم وصل کن.</p>      <input type="radio"/> <input type="radio"/> <input type="radio"/> <input type="radio"/> <input type="radio"/>      <input type="radio"/> <input type="radio"/> <input type="radio"/> <input type="radio"/> <input type="radio"/>	۱۰
۱ نمره	<p>کدام یک از گیاه تهیه نشده است؟ دور آن خط بکش.</p>    	۱۱
۱ نمره	<p>کدام گیاه دانه اش درون میوه نیست؟ علامت بزن.</p>    <input type="radio"/> <input type="radio"/> <input type="radio"/>	۱۲



شکرت پاسخ گوی  
۱۰۰ دقیقه

# علوم اول دبستان

تاریخ برگزاری: / /

آموزش و پرورش شهر ..... منطقه .....

دبستان غیر دولتی علوی

آزمون پایان سال تحصیلی










۹۵-۹۶



نام آموزگار:

نام کلاس:

نام و نام خانوادگی:

ردیف	سؤالات علوم اول دبستان	بازم
۱	<p>با توجه به تصاویر محل خورشید را برای هر کدام مشخص کن.</p>  <p>(ب)</p>  <p>(الف)</p>	۱
۲	<p>دور و وسایلی که زیر آب میروند خط بکش.</p>     	۱
۲	<p>در تصاویر زیر عضو قوی تر حیوانات را رنگ کن. (یک عضو)</p>  	۱/۵

تعداد پاسخ‌گویی  
۱۰۰ دقیقه

علوم اول دبستان

آموزش و پرورش شهر ..... منطقه .....

دبستان غیر دولتی علوی

آزمون پایان سال تحصیلی

۹۵-۹۶

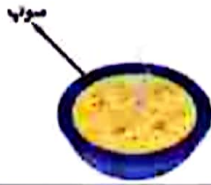


در کدام یک از تصاویر زیر وجود هوا لازم است؟ رنگ بزن.



۱۲

کدام وسیله هم نور دارد هم گرما دارد؟



۱۳

لباس‌های مخصوص هر فصل را به آن وصل کن.



فصل زمستان



فصل تابستان

۱۵



هر وسیله در کدام مسیر می‌تواند حرکت کند. به آن وصل کن.



۱/۵

۱۶



شکرت پاسخ گویی  
۱۰۰ دقیقه

علوم اول دبستان

فاریح برنگزای

آموزش و پرورش شهر ..... منطقه .....

دبستان غیردولتی علوی

آزمون پایان سال تحصیلی

۹۵-۹۶



علوی

در شکل‌های زیر کدام قسمت گیاهان خورده می‌شود آن را به نوشته درست وصل کن.



میوه



دانه



ساقه



ریشه

۸

شغل‌هایی که با آب در ارتباط است را رنگ بزن.



۹

وسایل ساده را آبی و وسایل پیچیده را قرمز کن.



۱۰

وجود کدام یک از موجودات زیر به خاک وابسته است. دور آن را خط بکش.



۱۱

کدام وسیله از خاک ساخته شده است؟



مجسمه سنگی



کاسه سفالی



مسنلی فلزی



خانه گلی

۱۲



مقدت پاسخ گوی  
۱۰۰ دقیقه

# علوم اول دبستان

تاریخ برگزاری: / /

آموزش و پرورش شهر ..... منطقه .....

دبستان غیر دولتی علوی

آزمون پایان سال تحصیلی

۹۵-۹۶



از کلهای زیر آنبایی که مربوط به بهداشت فردی است را انتخاب کن.




۲

در هر یک از اتفاقات زیر از چه کسی کمک می گیریم؟ آنها را به ماشین مربوطه وصل کن.




۵

چرخه رشد جانوران زیر را به ترتیب شماره گذاری کن.



۶

فایده هر حیوان را به خود آن وصل کن.



۷



مدت پاسخ گویی  
۴۵ دقیقه

تاریخ برگزاری: ..... / ..... / .....

سؤالات علوم اول دبستان (صفحه دوم)

ردیف

کدام سنگ رودخانه است، علامت ✓، بگذار.








۴

کدام یک از وسایل زیر هم گرما و هم نور تولید می کنند؟

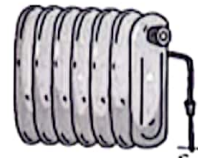














۵

تصاویر مربوط به بهداشت عمومی را رنگ کن.



۶

برای استفاده از کدام یک از وسایل زیر وجود هوا لازم است، آن را رنگ کن.



۷

چرخه‌ی رشد قورباغه را شماره گذاری کن.










۸



بسمه تعالی



علوم

علوم اول دبستان

آموزش و پرورش شهر ..... منطقه .....

دبستان غیردولتی علوی

آزمون پایان نیمسال دوم

تاریخ برگزاری: ..... / ..... / .....

مدت پاسخ گویی  
۴۵ دقیقه

نام و نام خانوادگی:


نام کلاس:

نام آموزگار:

سؤالات علوم اول دبستان (صفحه اول)

ردیف

کدام یک از ابزارهای زیر پیچیده است؟



۱

ابزار هر شغل را به خودش وصل کن.



۲

در هر یک از تصاویر زیر از چه کسی کمک می گیریم، آن‌ها را به هم وصل کن.



آتش سوزی

دزدی

تصادف

زلزله

۳

شدت پاسخ گویی  
۱۰۰ دقیقه

علوم اول دبستان





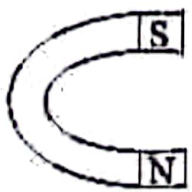



تاریخ برگزاری: / /

آموزش و پرورش شهر ..... منطقه .....

دبستان غیردولتی علوی  
آزمون پایان سال تحصیلی

۹۵-۹۶



۱	<p>در گذشته انسان‌ها برای رفتن از جایی به جایی دیگر از کدام وسیله استفاده می‌کردند؟</p>   	۱۷
۱	<p>آهن ربای قوی تر را رنگ کن.</p>  	۱۸
۱	<p>وقتی برق خاله قطع می‌شود از کدام یک وسایل زیر نمی‌توان استفاده کرد؟</p>   	۱۹