


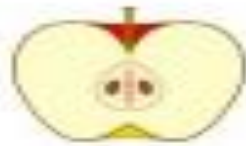
برنامه مروری ۲۵ آذر ماه  
علوم: فصل اول



با توجه به سایه خورشید را در جای مناسب بکش.




نیمه ی دیگر میوه های زیر را به آن ها وصل کن.



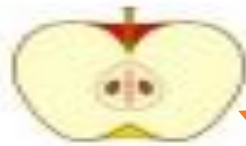
از وسایل زیر کدام یک در آب فرو می روند؟



با توجه به سایه خورشید را در جای مناسب بکش.



نیمه ی دیگر میوه های زیر را به آن ها وصل کن.



از وسایل زیر کدام یک در آب فرو می روند؟

