

تمرینات مروری فصل ۴
درس علوم
آنلاین ۲۸ آذر ماه

نیمه هر شکل را پیدا کن و بهم وصل کن! کدام یک موجود جاندار است؟ آن را با علامت نشان بده!



-



-



-



-



-



-



-



-




-

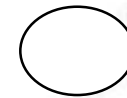
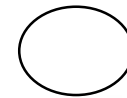
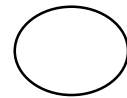

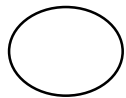


-

نیمه هر شکل را پیدا کن و بهم وصل کن! کدام یک موجود جاندار است؟ آن را با علامت نشان بده!




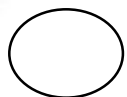
دایره حیوانات وحشی را رنگ کن!



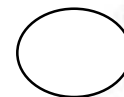



به دست می آید؟



کدام محصولات زیر از





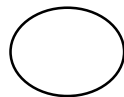

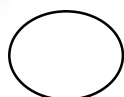
دایره حیوانات وحشی را رنگ کن!



به دست می آید؟



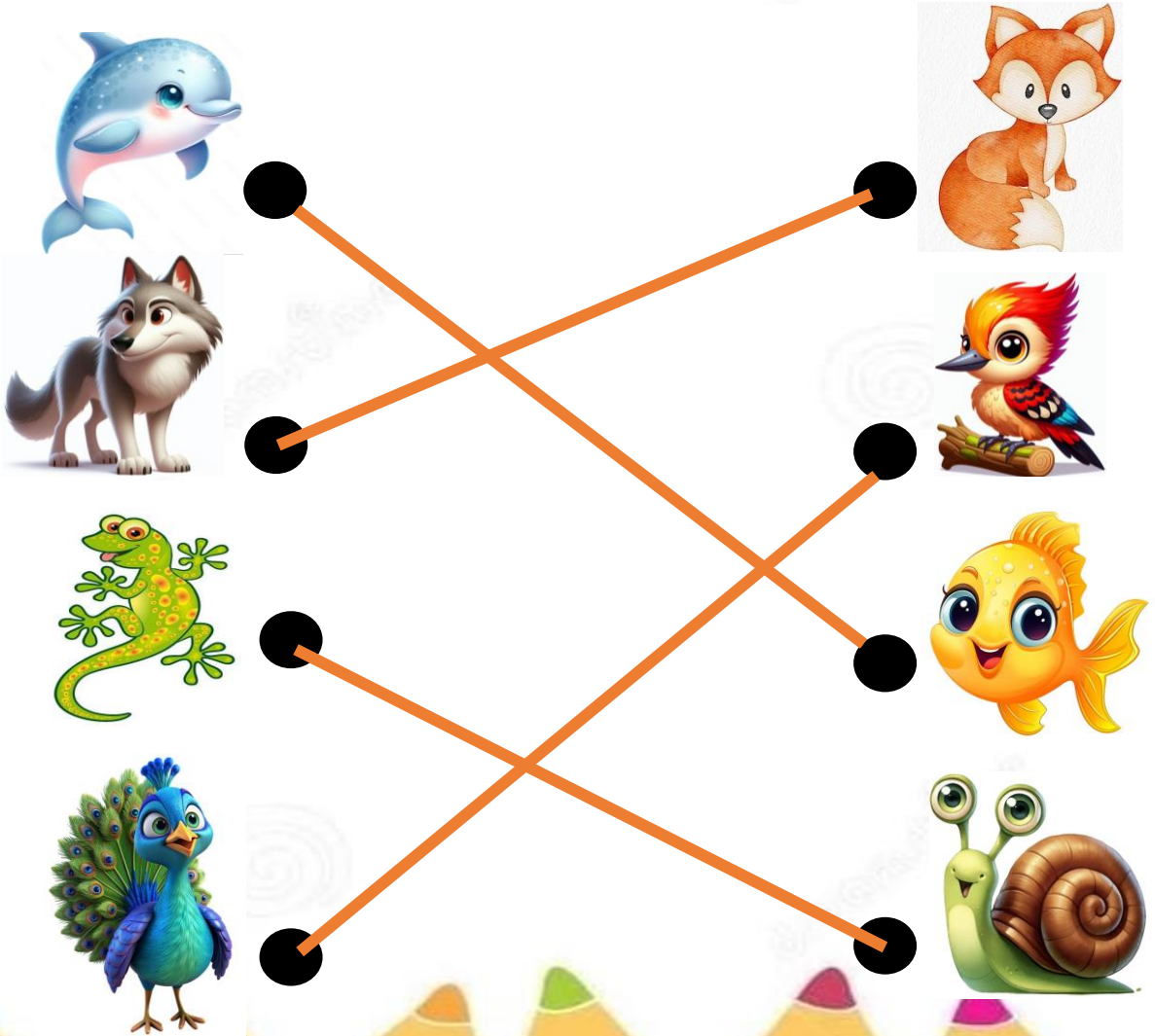
کدام محصولات زیر از




حيوانانى كه شبيه به هم حركت مى كنند را بهم وصل كن!







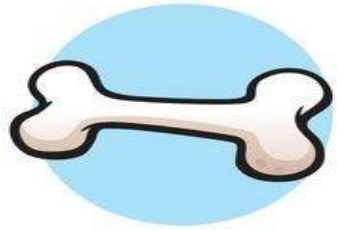



حيوانانى كه شبيه به هم حركت مى كنند را بهم وصل كن!





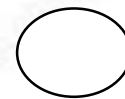
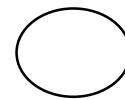
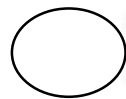
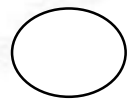
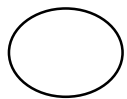
هر حیوانی را به غذای خودش وصل کن!






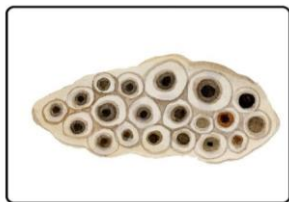


هر حیوانی را به غذای خودش وصل کن!


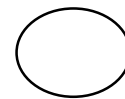
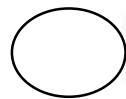
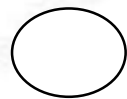
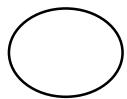

کدام یک از حیوانات زیر برای ما مضر نیست؟ دایره آن را رنگ کن!



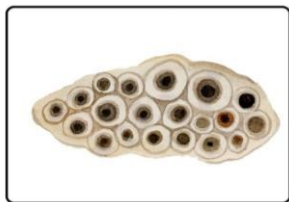
چرخه رشد قورباغه را شماره گذاری کن!



کدام یک از حیوانات زیر برای ما مضر نیست؟ دایره آن را رنگ کن!




چرخه رشد قورباغه را شماره گذاری کن!



۱




۵



۳



۲



۴



هر یک از جانداران زیر را به محل زندگی
خودش وصل کن!

هر یک از جانداران زیر را به خانه ی خودش وصل کن!

