



لباس‌هایی که مناسب فصل سرما است را به آدم برقی وصل کنید.

۱



کدام لباس در فصل گرما و تابستان مناسب پوشیدن است؟ دور آن را خط بکشید.

۲



یخ در کدام مکان دیرتر آب می‌شود؟ علامت بزنید.

۳



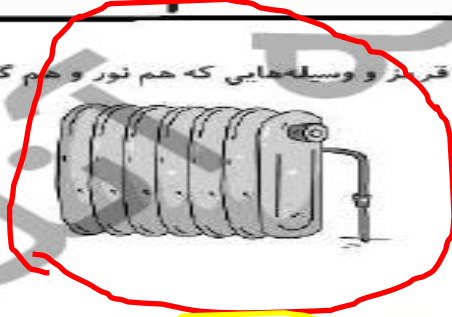
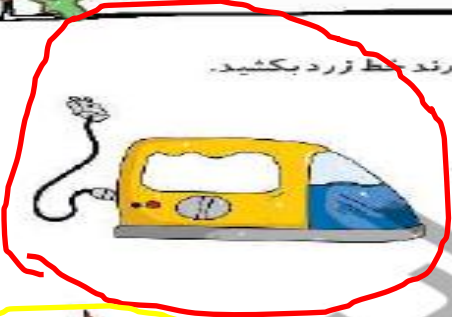
۴ یک وسیله که در زمان قدیم برای گرم کردن خانه استفاده می‌شد و یک وسیله که در حال حاضر موجب گرم کردن خانه می‌شود را نقاشی کنید.

جدید

قدیم

به انتخاب دانش آموزان نقاشی شود. به انتخاب دانش آموزان نقاشی شود.

۵ نور و وسایلی را که گرما دارند خط قرمز و وسیله‌هایی که هم نور و هم گرما دارند خط زرد بکشید.



تمرین

۱ شغل‌هایی که به گرما نیاز دارند را به آتش وصل کنید.



۲ درستی و نادرستی هر عبارت را مشخص کنید.

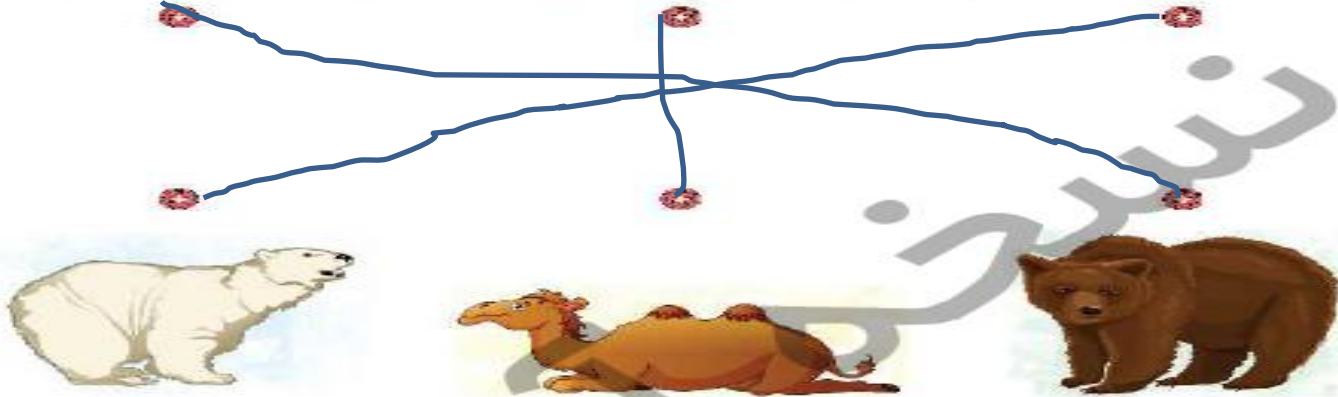
الف: در کنار آتش آب می‌شود. در کنار آتش آب می‌شود.

ب: پوشیدن در هوای مناسب است. در هوای مناسب است.

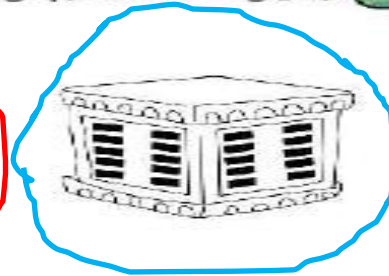
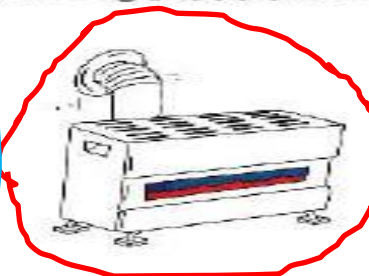
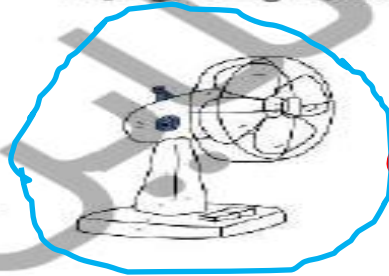
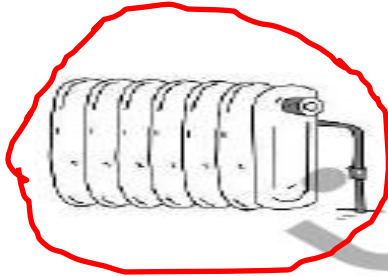
۳ در یک روز گرم از کدام یک از خوراکی‌های زیر استفاده می‌کنیم؟ آن را رنگ بزنید.



۴ با توجه به پوشش بدن هر جانور آن را به محل زندگی خود وصل کنید.



۵ وسایلی که خله را گرم می‌کنند. فرمز و وسایلی که خله را سرد می‌کنند آبی کنید.



۶ چه رنگی مناسب فصل زمستان است؟ علامت بزنید.



علوی

راه های هدر رفتن گرما : باز بودن پنجره و زیاد بودن شعله بخاری، پوشیدن لباس کم در فصل سرد و زیاد کردن شعله بخاری برای گرم شدن

در تصویرهای زیر اختلافات را پیدا کنید و راههای هدر رفتن گرما را توضیح بدهید.

تصویر ۲



تصویر ۱



در این سوال
ارائه پاسخ
شفاهی توسط
دانش آموزان
کفایت می
کند.

در گذشته یخ را در چه مکانی نگهداری می کردند؟ علامت بزنید.



اختلافات :
باز بودن
پنجره در
یک تصویر
تفاوت در
پوشش
پسر بچه
میزان
شعله
بخاری در
تصاویر