

فعالیت کلاسی



لباس‌هایی که مناسب فصل سرما است را به آدم برفی وصل کنید.

۱



کدام لباس در فصل گرما و تابستان مناسب پوشیدن است؟ دور آن را خط بکشید.

۲



یخ در کدام مکان دیرتر آب می‌شود؟ علامت  بزنید.


۳



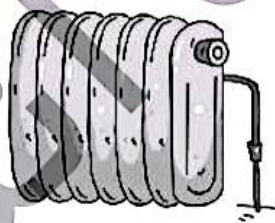
۴ یک وسیله که در زمان قدیم برای گرم کردن خانه استفاده می‌شد و یک وسیله که در حال حاضر موجب گرم کردن خانه می‌شود را نقاشی کنید.

جدید

قدیم



۵ دور وسایلی را که گرما دارند خط قرمز و وسیله‌هایی که هم نور و هم گرما دارند خط زرد بکشید.

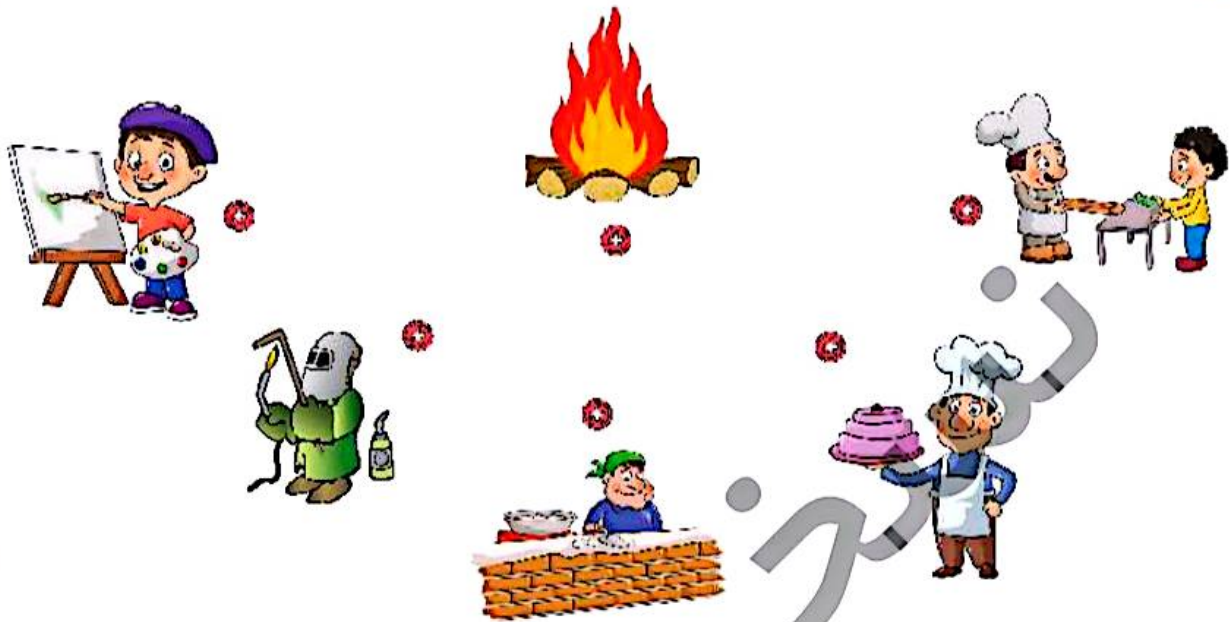


علوم اول دبستان



تمرین

۱ شغل‌هایی که به گرما نیاز دارند را به آتش وصل کنید.




۲ درستی و نادرستی هر عبارت را مشخص کنید.

الف: در کنار آتش آب می‌شود.

ب: پوشیدن در هوای مناسب است.

۳ در یک روز گرم از کدام یک از خوراکی‌های زیر استفاده می‌کنیم؟ آن را رنگ بزنید.


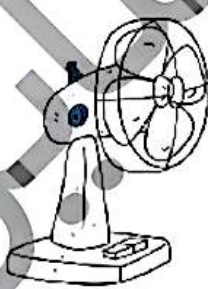
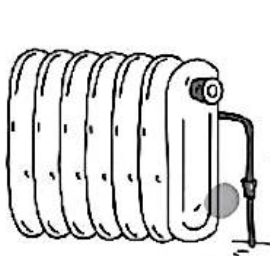


دنیای سرد و گرم ▶ درس یازدهم

با توجه به پوشش بدن هر جانور آن را به محل زندگی خود وصل کنید.



وسایلی که خانه را گرم می‌کنند. قرمز و وسایلی که خانه را سرد می‌کنند آبی کنید.



چه رنگی مناسب فصل زمستان است؟ علامت  بزنید.



علوم اول دبستان



# علوی

۷ در تصویرهای زیر اختلافات را پیدا کنید و راه‌های هدر رفتن گرما را توضیح بدهید.


تصویر ۲



تصویر ۱



۸ در گذشته یخ را در چه مکانی نگهداری می‌کردند؟ علامت  بزنید.



## خودارزیابی

نیاز به تلاش	قابل قبول	خوب	خیلی خوب
<input type="radio"/>	<input type="radio"/>	<input type="radio"/>	<input type="radio"/>
<input type="radio"/>	<input type="radio"/>	<input type="radio"/>	<input type="radio"/>
<input type="radio"/>	<input type="radio"/>	<input type="radio"/>	<input type="radio"/>
<input type="radio"/>	<input type="radio"/>	<input type="radio"/>	<input type="radio"/>

- با تغییر فصل‌ها و تنوع آب و هوا در ایران آشنا شدم.
- عوامل تولید سرما و گرما را نام می‌برم.
- تأثیر جنس و رنگ مواد را در جذب گرما و سرما می‌دانم.
- با تفاوت مقدار گرما در وسایل مختلف آشنا هستم.

دنیای سرد و گرم → درس یازدهم