



شماره‌ی

۲۵

ارمغان هفته - اول دبستان

نام و نام خانوادگی: تاریخ: نام آموزگار:

ریاضی ۲۱ تم

علوم ۱۲ درس از خانه تا مدرسه (۲)

فارسی ۳ نشانه‌های «ع-ع-ع» و «ث-ث-ث»

ریاضی

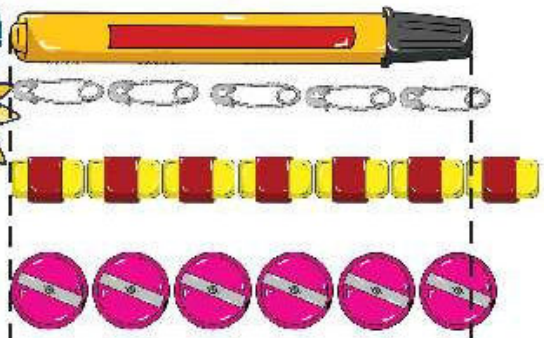
در جای خالی به عدد یا به حروف بنویسید.

۷۸	45	۲۰	3	۶۰	93	۹۴	70	۱۰
هفتاد و هشت	چهل و پنج	سی	سه	شصت	نود و سه	نود و چهار	هفتاد	ده

در جدول اعداد زیر در قسمت‌هایی که گل کشیده شده است، بر حسب عدد مناسب را بچسبانید.

۱	۲	۳	۴	5	۶	۷	۸	۹	۱۰
۱۱	۱۲	13	۱۴	۱۵	۱۶	۱۷	18	۱۹	۲۰
۲۱	۲۲	۲۳	۲۴	۲۵	۲۶	27	۲۸	۲۹	۳۰
31	۳۲	۳۳	۳۴	۳۵	۳۶	۳۷	۳۸	39	۴۰
۴۱	۴۲	۴۳	۴۴	۴۵	۴۶	۴۷	۴۸	۴۹	50

اندازه‌ی ماژیک را با وسایل زیر اندازه بگیرید.



اندازه‌ی ماژیک بین 4 تا 5 سنجاق است.

اندازه‌ی ماژیک بین 6 تا 7 پاک‌کن است.

اندازه‌ی ماژیک بین 5 تا 6 تراش است.



زمانی را که هر ساعت نشان می دهد بنویسید.



ساعت **7** است.



ساعت **3** است.



زمان بین **4** و **5** است.



زمان بین **8** و **9** است.

حاصل جمع های زیر را به دست بیاورید.



$$10 + 5 + 5 + 10 + 5 = 35$$

$$20 + 20 + 10 + 3 + 2 = 55$$

علوم

جهت حرکت اجسام در تصاویر زیر را با مشخص کنید



آیا تا به حال دقت کرده‌اید که برای رفتن به مدرسه از چه مسیرهایی عبور می‌کنید؟

این بار به مسیر با دقت نگاه کنید و بگو از چه جاهایی عبور کردید؟ و چه چیزهایی دیدید؟



در ناعدادی عکس از مسیر خانه تا مدرسه‌ی دوستان بر نارانشان داد. مسیر مدرسه تا منزل شما کدام است؟ علامت بزنید.



از شکل‌های بالا کدام مسیرها راحت‌تر هستند؟ 4 2

از شکل‌های بالا کدام مسیرها سخت‌تر هستند؟ 3 1

برای حرکت در مسیر کوهستانی به چه وسایلی نیاز دارید؟ عکس ۳ مورد را بکشید یا تصویر آن را بچسبانید.



فارسی

کلمه‌ی مناسب را انتخاب کنید و در جای خالی بنویسید.

(الف) به نور خورشید آفتاب می‌گویند. (آفتاب، مهتاب)

(ب) به برادر پدر عمو می‌گویند. (دایی، عمو)

(پ) دست‌های کثیف باعث بیماری می‌شود. (تمیز، کثیف)

(ت) ثریا خواهر علی است. (برادر، خواهر)

در جای خالی نشانه‌ی مناسب (س، ص، ث) بنویسید.

باعث

صد ندای

مخ صد و ص

کثیف

ثانیه

و س ایل

مع صد و مه

س جد

متن زیر را با صدای بلند بخوانید و به پرسش‌ها پاسخ دهید.

امروز اکثر بچه‌ها برای جشن تولد علی آمدند. شمع‌های یک تولد علی مثل عدد هفت بود. ثریا برای علی یک ساعت با عقربه ثانیه‌شمار هدیه آورد. قبل از خوردن کیک ما دست‌های کنیف خود را شستیم. بعد از کیک همه‌ی بچه‌ها میوه خوردند. چون خوردن میوه باعث سلامتی و تندرستی می‌شود.

با توجه به متن با نوشتن کلمات برای هر نشانه، جدول را کامل کنید.

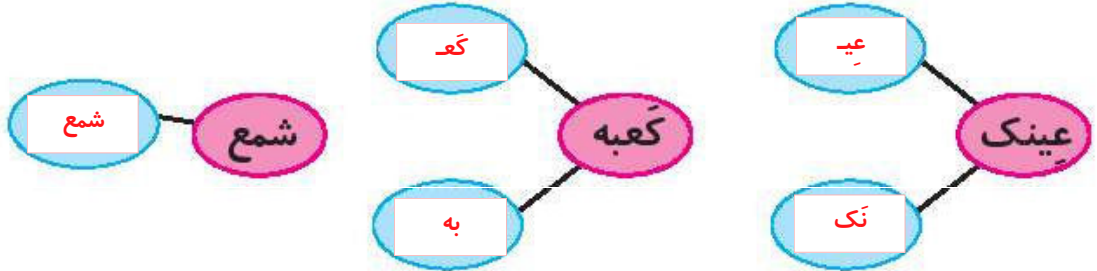
ث ث	در متن با کشیدن خط آبی مشخص شده اند.
س س	در متن با کشیدن خط سبز مشخص شده اند.
ع ع ع	دور آنها را در متن خط قرمز کشیده شده است.

هدیه‌ی ثریا برای علی چه بود؟ ★

بچه‌ها چه چیزهایی خوردند؟ ★

یک ساعت با عقربه‌ی ثانیه‌شمار
یک تولد علی و میوه

هر کلمه را بخش کنید و بنویسید.



صدای آخر هر کلمه در ردیف بالا، با صدای اول یک کلمه در ردیف پایین یکی است. آن‌ها را مثل هم رنگ کنید.

مخصوص	مزرعه	شروع	باعث	کنیف	دعا	مثل
آسایش	لاک‌پشت	اداره	عید	ثریا	فراموش	صابون

- ◀ حرکت در مسیر کوهستانی
- ◀ جمله سازی (درک مطلب)
- ◀ روان خوانی (درک مطلب)
- ◀ تشخیص صدای آخر - املا

- ◀ عددنویسی - جمع
- ◀ اندازه‌گیری با واحد غیر استاندارد
- ◀ تشخیص زمان
- ◀ جهت و مسیر حرکت

شاخص‌ها

- 🍌 خیلی خوب
- 🍌 خوب
- 🍌 قابل قبول
- 🍌 نیاز به تلاش بیشتر