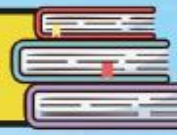


طرح سنجش استعداد: مداد قرمز ۱ - توصیفی



درس: علوم اول دبستان



علوی

مدارس هزاره سوم

مدت پاسخگویی: ۴۵ دقیقه



زمان برگزاری: هفته سوم آبان



نام کلاس:

نام و نام خانوادگی:



۶) کدام مورد به روی آب و کدام به زیر آب می‌روند؟ وصل کنید.



• (ث)



روی آب

•



• (الف)



• (ج)



زیر آب

•



• (ب)



• (چ)



• (پ)



• (ح)

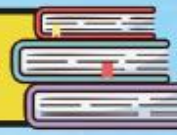


• (ت)

طرح سنجش استعداد: مداد قرمز ۱ - توصیفی



درس: علوم اول دبستان



علوی

مدارس هزاره سوم

مدت پاسخگویی: ۴۵ دقیقه



زمان برگزاری: هفته سوم آبان



نام کلاس:

نام و نام خانوادگی:



۶) کدام مورد به روی آب و کدام به زیر آب می‌روند؟ وصل کنید.



(ث)



روی آب



(ج)



زیر آب



(چ)



(ح)



(الف)



(ب)



(پ)



(ت)

۷) درستی یا نادرستی جملات داده شده را مشخص کنید.

نادرست



درست



الف) افراد نابینا اطراف خود را با چشم می بینند.



می شناسند.

ب) افراد ناشنا چیزهای اطراف را با

پ) حس بویایی سگ قوی نیست.

ت) خوب دیدن و خوب شنیدن در هیچ شغلی مهم نیست.



۷) درستی یا نادرستی جملات داده شده را مشخص کنید.

نادرست




درست



الف) افراد نابینا اطراف خود را با چشم می بینند.



ب) افراد ناشنوا چیزهای اطراف را با  می شناسند.



پ) حس بویایی سگ قوی نیست.



ت) خوب دیدن و خوب شنیدن در هیچ شغلی مهم نیست.

مدارس هزاره سوم

۸) □ زیر کارهای مربوط به بهداشت فردی را آبی □ و بهداشت عمومی را قرمز □ کنید.



مدارس هزاره سوم

۸) □ زیر کارهای مربوط به بهداشت فردی را آبی ■ و بهداشت عمومی را قرمز ■ کنید.



۹) خوراکی‌های مفید را با ✓ و غیرمفید را با ✖ مشخص کنید.



(ت)



(پ)



(ب)



(الف)



(ح)



(چ)



(ج)



(ث)



۹) خوراکی‌های مفید را با ✓ و غیرمفید را با ✗ مشخص کنید.



ت)



پ)



ب)



الف)



ح)



چ)



ج)



ث)



- (الف) با توجه به سایه‌ی هر درخت، خورشید مربوط به آن را نقاشی کنید.
- (ب) کدام تصویر سایه‌ی ظهر را نشان می‌دهد؟ دور آن خط بکشید.



• (الف) با توجه به سایه‌ی هر درخت، خورشید مربوط به آن را نقاشی کنید.
(ب) کدام تصویر سایه‌ی ظهر را نشان می‌دهد؟ دور آن خط بکشید.

