

نام کلاس:

نام و نام خانوادگی:

۶) کدام مورد به روی آب و کدام به زیر آب می‌روند؟ وصل کنید.



(ث)



روی آب



(الف)



(ج)



زیر آب



(ب)



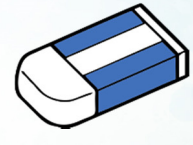
(چ)



(پ)



(ح)



(ت)



۷) درستی یا نادرستی جملات داده شده را مشخص کنید.

نادرست




درست



الف) افراد نابینا اطراف خود را با چشم می‌بینند.



ب) افراد ناشنوا چیزهای اطراف را با  می‌شناسند.



پ) حس بویایی سگ قوی نیست.




ت) خوب دیدن و خوب شنیدن در هیچ شغلی مهم نیست.

۸) زیر کارهای مربوط به بهداشت فردی را آبی و بهداشت عمومی را قرمز کنید.



۹) خوراکی‌های مفید را با و غیرمفید را با * مشخص کنید.



۱۰) الف) با توجه به سایه‌ی هر درخت، خورشید مربوط به آن را نقاشی کنید.

ب) کدام تصویر سایه‌ی ظهر را نشان می‌دهد؟ دور آن خط بکشید.

