



نام کلاس: .....

نام و نام خانوادگی: .....

۱۱) جانورانی که مانند هم حرکت می کنند را به یکدیگر وصل کنید.



(۱)



(الف)




(۲)



(ب)



(۳)



(پ)



(۴)



(ت)



۱۲) درستی یا نادرستی جملات داده شده را مشخص کنید.

نادرست

درست



الف) اگر آب لوله کشی قطع شود، مشکلی برای ما و بقیه ی مردم پیش نمی آید.

ب) بیشتر آب های روی کره ی زمین، شور هستند.

پ) هر آبی آشامیدنی نیست.


ت) هیچ شغلی با آب در ارتباط نیست.

۱۳) گزینه‌ی صحیح را مشخص کنید.

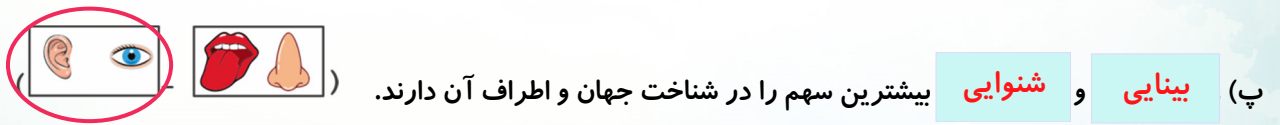
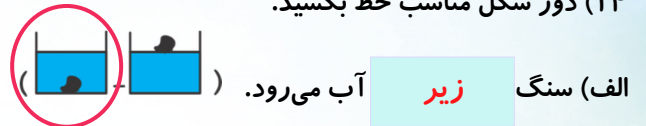
الف) کدامیک از سنگ‌های زیر در رودخانه‌ها است؟



ب) در ساخت کدامیک از وسایل زیر، از سنگ استفاده شده است؟



۱۴) دور شکل مناسب خط بکشید.



۱۵) دور شکل مناسب خط بکشید.

الف) از کدام وسیله برای جابه‌جا کردن سنگ‌های خیلی بزرگ استفاده می‌شود؟




ب) کدامیک از موارد زیر بنای تاریخی سنگی است؟




۱۶ الف) به گیاه داده شده با دقت نگاه کنید.

ریشه را زرد، برگ را سبز، گل را قرمز و ساقه را قهوه‌ای کنید.



ب) کدام گیاه ریشه‌ی خوراکی دارد؟



پ) کدام قسمت گیاه درون خاک است و گیاه را در خاک نگه می‌دارد؟



۱۷ الف) کدام یک جز بهداشت فردی نیست؟ دایره‌ی آن را آبی کنید.



ب) کدام یک از غذاهای زیر برای صبحانه مناسب نیست؟ دایره‌ی آن را قرمز کنید.



۱۸ الف) جانور مفید را رنگ کنید.



ب) جانور مضر را رنگ کنید.



۱۹) در کشور ما ایران گیاهان گوناگونی می‌روید. هر گیاه را به درخت مناسب خود وصل کنید.



(۱)



(الف)



(۲)



(ب)



(۳)




(پ)



۲۰) مراحل تشکیل باران را به ترتیب شماره گذاری کنید.




(ب)



(الف)



(ت)



(پ)