

نام کلاس:

نام و نام خانوادگی:

۱۱) هر درخت را به سایه‌ی مربوط به خودش وصل کنید.

(الف)

(ب)

(پ)

۱۲) درستی یا نادرستی جملات داده شده مشخص کنید.

نادرست



درست



(الف) خوب دیدن و خوب شنیدن در هیچ شغلی مهم نیست.

(ب) ورزش و بازی ما را سالم و شاداب می‌کند.

(پ) گرفتن ناخن، جزء بهداشت فردی نیست.

(ت) تمیزی مدرسه به شادابی ما کمک می‌کند.

۱۳) گزینه‌ی صحیح را مشخص کنید.
الف) کدام جانور مضر است؟



(۲)



(۱)

ب) ریشه‌ی کدام گیاه خوراکی است؟



(۲)



(۱)

پ) با کدام گیاه می‌توان رنگ درست کرد؟



(۲)



(۱)

ت) دانه‌ی درخت کاج کدام است؟



(۲)



(۱)



۱۴) دایره‌ی مربوط به مورد صحیح را رنگ کنید.

الف) آب از کدام خاک زودتر عبور می‌کند؟



(۲)

خاک دانه ریز)



(۱)

خاک دانه درشت)

ب) کدام تصویر، بزرگترین بنای خاکی جهان است؟



(۲)

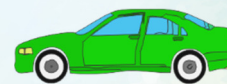


(۱)

پ) کدام یک باعث آلودگی هوا نمی‌شود؟



(۲)



(۱)

ت) هوا در انجام چه کارهایی به ما کمک می‌کند؟



(۲)



(۱)

۱۵) دور پاسخ مناسب خط بکشید.

الف) حرکت در کدام مسیر راحت است؟

۱) مسیر کوهستانی
۲) ✓ سطح صاف و بدون شیب

ب) حرکت دادن کتاب روی کدام سطح آسان تر است؟

۱) روی موکت
۲) ✓ روی سرامیک



۱۶) جاهای خالی را با انتخاب واژه‌ی مناسب کامل کنید. (۱ واژه اضافی است).

«هست - نگهبانی - گوناگون - نیست»

الف) آب، روی زمین به شکل‌های **گوناگون** و در جاهای مختلف وجود دارد.

ب) در ایران باستان، افرادی از آب چشمه‌های بزرگ **نگهبانی** می‌کردند.

پ) هر آبی آشامیدنی **نیست**.



۱۷) دور ابزار ساده را با مداد سبز و ابزار پیچیده را با مداد قرمز خط بکشید.



ت ✓



پ ✓



ب ✓



الف ✓



ح ✓



ج ✓



ج ✓



ث ✓



۱۸) وسایل حرکت روی خشکی از گذشته تا به امروز تغییراتی داشته است، آن‌ها را شماره گذاری کنید.



۱

ب



۴

الف



۳

ت



۲

پ

الف) آهن ربا را در کنار چه وسایلی نباید قرار داد؟ (۲ مورد نام ببرید)

موبایل - تلویزیون - کارت های بانکی

ب) اگر مقداری سوزن روی زمین ریخته شده باشد، با چه وسیله ای جمع شود، بهتر است؟





با آهن ربا

پ) کدام قسمت آهن ربا قدرت بیشتری دارد؟

دو سر آهن ربا



۲۰) مراحل رشد جوجه را شماره گذاری کنید.

(ت)	(پ)	(ب)	(الف)
			
۲	۱	۴	۳