

طرح سنجش استعداد: مدارقمرز ۱ - توصیفی



درس: علوم اول دبستان



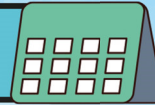
علوی

مدارس هزاره سوم

مدت پاسخگویی: ۴۵ دقیقه















زمان برگزاری: هفته چهارم آبان



نام کلاس:

نام و نام خانوادگی:




۶) تصویر مربوط به هر حس را به آن عضو وصل کنید.

 (۱)		 (الف)
 (۲)		 (ب)
 (۳)		 (پ)
 (۴)		 (ت)





۷) جملات درست را با علامت ✓ و جملات نادرست را با علامت ✗ مشخص کنید.



الف) به کمک     می توانیم چیزها و محیط اطرافمان را بشناسیم.





ب) تماشای  از فاصله‌ی نزدیک به  آسیب نمی‌رساند.



پ) در هیچ شغلی  و  مهم نیست.



ت)  ،  قوی دارد.

۸) گزینه‌ی صحیح را مشخص کنید.

الف) با توجه به محل قرارگیری خورشید نسبت به درخت، کدام شکل، سایه‌ی درخت را به درستی نشان می‌دهد؟



ب) کدام وسیله روی آب می‌ماند؟



۹) دایره‌ی کنار تصویر صحیح را قرمز کنید.

الف) ورزش و بازی ما را به چه فردی تبدیل می‌کند؟



ب) کدام مورد برای وعده‌ی صبحانه مفیدتر است؟



۱۰) هر اتفاق مربوط به کدام سازمان امدادرسان می‌باشد؟ (دایره‌ی کنار هر تصویر طبق راهنما رنگ شود.)

