



طرح سنجش استعداد: مداد قرمز ۲- توصیفی



درس: علوم اول دبستان




علوی

مدارس هزاره سوم

مدت پاسخگویی: ۷۵ دقیقه



زمان برگزاری: هفته دوم دی



نام کلاس:

نام و نام خانوادگی:



(۱) جانورانی که مانند هم حرکت می کنند را به یکدیگر وصل کنید.



(۱)



(الف)




(۲)



(ب)



(۳)



(پ)



(۴)




(ت)



طرح سنجش استعداد: مداد قرمز ۲- توصیفی



درس: علوم اول دبستان



علوی

مدارس هزاره سوم

مدت پاسخگویی: ۷۵ دقیقه



زمان برگزاری: هفته دوم دی



نام کلاس:

نام و نام خانوادگی:



(۱) جانورانی که مانند هم حرکت می کنند را به یکدیگر وصل کنید.



(۱)



(الف)



(۲)



(ب)



(۳)



(پ)



(۴)



(ت)

۱۲) درستی یا نادرستی جملات داده شده را مشخص کنید.

نادرست

درست



الف) اگر آب لوله‌کشی قطع شود، مشکلی برای ما و بقیه‌ی مردم پیش نمی‌آید.



ب) بیشتر آب‌های روی کره‌ی زمین، شور هستند.



پ) هر آبی آشامیدنی نیست.



ت) هیچ شغلی با آب در ارتباط نیست.

۱۲) درستی یا نادرستی جملات داده شده را مشخص کنید.

نادرست

درست



الف) اگر آب لوله کشی قطع شود، مشکلی برای ما و بقیه‌ی مردم پیش نمی‌آید.



ب) بیشتر آب‌های روی کره‌ی زمین، شور هستند.



پ) هر آبی آشامیدنی نیست.



ت) هیچ شغلی با آب در ارتباط نیست.

۱۳) گزینه‌ی صحیح را مشخص کنید.

الف) کدامیک از سنگ‌های زیر در رودخانه‌ها است؟



(۲)



(۱)

ب) در ساخت کدامیک از وسایل زیر، از سنگ استفاده شده است؟



(۲)



(۱)



۱۳) گزینه‌ی صحیح را مشخص کنید.

الف) کدامیک از سنگ‌های زیر در رودخانه‌ها است؟



(۲)



(۱)

ب) در ساخت کدامیک از وسایل زیر، از سنگ استفاده شده است؟



(۲)



(۱)



۱۴) دور شکل مناسب خط بکشید.



الف) سنگ آب می‌رود. ()



ب) اگر خورشید وسط آسمان باشد و موقع ظهر باشد، سایه‌ی انسان است. ()



پ) و بیشترین سهم را در شناخت جهان و اطراف آن دارند. ()



ت) به کمک می‌توانیم چیزهای اطرافمان را بشناسیم. ()



۱۵) دور شکل مناسب خط بکشید.

الف) از کدام وسیله برای جابه‌جا کردن سنگ‌های خیلی بزرگ استفاده می‌شود؟



(۳)



(۲)



(۱)

ب) کدام یک از موارد زیر بنای تاریخی سنگی است؟



(۳)

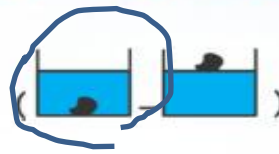


(۲)



(۱)

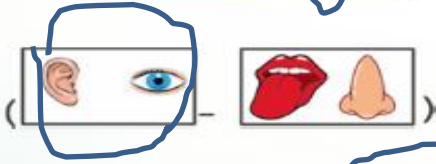
۱۴) دور شکل مناسب خط بکشید.



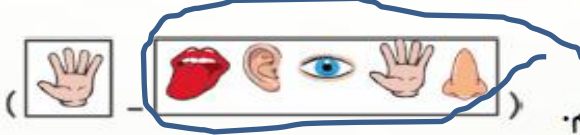
الف) سنگ آب می‌رود.



ب) اگر خورشید وسط آسمان باشد و موقع ظهر باشد، سایه‌ی انسان است.



پ) و بیشترین سهم را در شناخت جهان و اطراف آن دارند.



ت) به کمک می‌توانیم چیزهای اطرافمان را بشناسیم.



۱۵) دور شکل مناسب خط بکشید.

الف) از کدام وسیله برای جابه‌جا کردن سنگ‌های خیلی بزرگ استفاده می‌شود؟



۳)



۲)



۱)

ب) کدام یک از موارد زیر بنای تاریخی سنگی است؟



۳)



۲)



۱)

۱۶ الف) به گیاه داده شده با دقت نگاه کنید.

ریشه را زرد، برگ را سبز، گل را قرمز و ساقه را قهوه‌ای کنید.



ب) کدام گیاه ریشه‌ی خوراکی دارد؟



(۳)



(۲)



(۱)

پ) کدام قسمت گیاه درون خاک است و گیاه را در خاک نگه می‌دارد؟



(۳)



(۲)

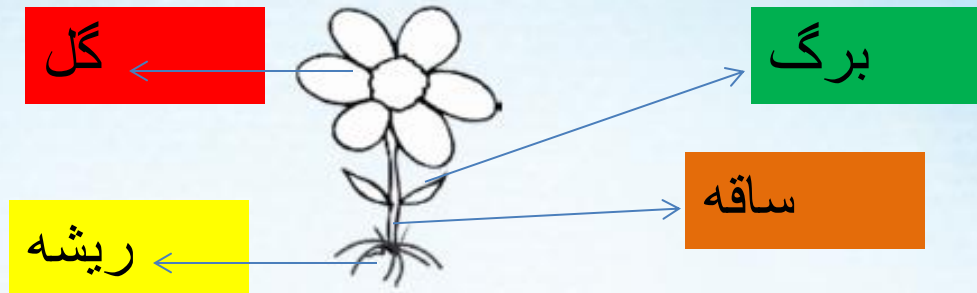


(۱)



۱۶ الف) به گیاه داده شده با دقت نگاه کنید.

ریشه را زرد، برگ را سبز، گل را قرمز و ساقه را قهوه‌ای کنید.



ب) کدام گیاه ریشه‌ی خوراکی دارد؟



پ) کدام قسمت گیاه درون خاک است و گیاه را در خاک نگه می‌دارد؟



۱۷) الف) کدامیک جز بهداشت فردی نیست؟ دایره‌ی آن را آبی کنید.



ب) کدامیک از غذاهای زیر برای صبحانه مناسب نیست؟ دایره‌ی آن را قرمز کنید.



۱۸) الف) جانور مفید را رنگ کنید.



ب) جانور مضر را رنگ کنید.



۱۷) الف) کدامیک جز بهداشت فردی نیست؟ دایره‌ی آن را آبی کنید.



ب) کدامیک از غذاهای زیر برای صبحانه مناسب نیست؟ دایره‌ی آن را قرمز کنید.



۱۸) الف) جانور مفید را رنگ کنید.



ب) جانور مضر را رنگ کنید.



۱۹) در کشور ما ایران گیاهان گوناگونی می‌روید. هر گیاه را به درخت مناسب خود وصل کنید.



(۱)



(الف)



(۲)



(ب)



(۳)



(پ)

۱۹) در کشور ما ایران گیاهان گوناگونی می‌روید. هر گیاه را به درخت مناسب خود وصل کنید.



(۱)



(الف)



(۲)




(ب)



(۳)



(پ)



۲۰) مراحل تشکیل باران را به ترتیب شماره گذاری کنید.



(ب)



(الف)



(ت)



(پ)

۲۰) مراحل تشکیل باران را به ترتیب شماره گذاری کنید.



۱

(ب)



۴

(الف)



۳

(ت)



۲

(ج)