




## ارزشیابی نیمسال اول (۱)



تاریخ: .....

نام و نام خانوادگی: .....

۱۱. جانورانی که مثل هم حرکت می‌کنند را به هم وصل کن.



۱۲. کدام جانور زیر گوشت‌خوار است؟ رنگ بزن.



۱۵۰







تاریخ: .....

نام و نام خانوادگی: .....

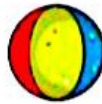
۱۳. در هر گیاه، قسمتی را که قابل خوردن است رنگ بزن.



۱۴. شکل گیاه به هم ریخته‌ی زیر را مرتب کن و آن را در کادر زیر بکش.



۱۵. مواردی که به آب نیاز دارند را علامت بزن.



۱۶. در کدام کار از آب استفاده نمی‌شود؟ علامت بزن.

