





نام کلاس:

نام و نام خانوادگی:

۱۱) وسایلی که جذب آهن‌ریبا می‌شوند به ✓ و وسایلی که جذب نمی‌شوند را به ✖ وصل کنید.

	(پ)	<input checked="" type="checkbox"/>		(الف)
	(ت)	<input checked="" type="checkbox"/>		(ب)

۱۲) جملات درست را با علامت ✓ و جملات نادرست را با علامت ✖ مشخص کنید.

- (الف) در آفتاب، مقوای مشکی زودتر از مقوای سفید گرم می‌شود.
- (ب) در یک روز سرد زمستانی، خوردن یک نوشیدنی داغ بسیار لذت‌بخش است.
- (پ) شوفاژ برقی، نور و گرما تولید می‌کند.
- (ت) در فصل زمستان برای داشتن هوای مناسب در منزل، پنجره را باز می‌گذاریم.

۱۳) گزینه‌ی صحیح را مشخص کنید.

(الف) حرکت ماشین با کدام چرخ راحت‌تر انجام می‌شود؟




(ب) کتاب روی کدام سطح به آسانی حرکت می‌کند؟



(پ) استفاده از کدام وسیله به پاکیزگی هوا کمک می‌کند؟



(ت) کدام وسیله با حرکت به ما کمک می‌کند؟



۱۴) جاهای خالی را با انتخاب واژه‌ی مناسب کامل کنید.

(هوا - گیاهان - وسایل نقلیه - آتش)

الف) در درست کردن، هوا نقش مهمی دارد.


ب) بعضی بیماری‌ها از راه منتقل می‌شوند.

پ) یکی از علت‌های آلودگی هوا هستند.



ت) برای زنده ماندن به هوا نیاز دارند.



۱۵) وسایل روشنایی از گذشته تا به امروز تغییراتی داشته است، آن‌ها را شماره‌گذاری کنید.



۱۶) دور کارهایی که باعث سالم ماندن بدن می‌شوند را با مداد سبز و کارهایی که برای ما مضر هستند را با مداد قرمز خط بکشید.



الف) سنگ‌ها را در کجا می‌توانیم ببینیم؟ (دو مورد)

.....

ب) چرا کشاورزان قبل از کاشتن دانه، زمین را شخم می‌زنند؟ (۱ مورد)

.....

پ) بزرگ‌ترین بنای خاکی جهان را بنویسید.

ت) یکی از کاربردهای سنگ را در زندگی نام ببرید.



(۱۸) مربع مربوط به مورد صحیح را رنگ کنید.

الف) کدام جانور انسان را بیمار می‌کند؟



ب) کدام موجود غیر زنده است؟



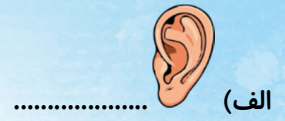
پ) با کدام گیاه می‌توان رنگ خوراکی درست کرد؟



ت) کدام یک ریشه‌ی خوراکی است؟



۱۹) تصاویر حواس پنج گانه را نشان می دهند. نام هر حس را زیر تصویر مربوط به آن بنویسید.



۲۰) مربع کنار وسایلی که روی آب می مانند را آبی و وسایلی که در آب فرو می روند را قرمز کنید.

