




نام و نام خانوادگی :

بسمه تعالی

پایه اول

۳ جدول را کامل کن.

	.....			شکل
.....	مستطیل	.....	.....	نام شکل
.....	.....	.....	.....	تعداد گوشه

۴ در جاهای خالی عدد مناسب بنویس.


۳۵ برابر است با ..... ده تایی و ..... یکی

۹۰ برابر است با ..... ده تایی و ..... یکی

۷ ده تایی و ۹ یکی می شود .....

۶ ده تایی و ۴ یکی می شود: .....

۵ عدد را از جدول بیرون بیاور و با رقم و حروف بنویس و برای آن شکل بکش.



ده تایی	یکی
۳	۹

با رقم: ..... با حروف: .....

۶ از عدد ۹۰ تا ۱۰۰ یکی یکی بنویس.



۷ در باغ وحش ۹ خرگوش سفید و ۶ خرگوش خاکستری بود. ۴ تا از خرگوش‌ها را به جای دیگر بردند. حالا در باغ وحش چند خرگوش مانده است؟

..... + ..... =

در باغ وحش ..... خرگوش بود.

..... - ..... =

حالا در باغ وحش ..... خرگوش مانده است.