


	<p>ساعت پایان: .....</p>  <p>تاریخ: .....</p> <p>کلاس: دوم</p>	<p>به نام خدا پیش دبستان و دبستان پسرانه (شعبه ی شرق)</p>	<p>ساعت شروع: .....</p>  <p>نام و نام خانوادگی: .....</p> <p>نام آموزگار: .....</p> 
---	---	---	---

عنوی

۱- چگونه می توانیم به حفظ محیط زیست کمک کنیم؟ (۲ مورد را بنویسید).

.....

۲- با استفاده از کلمات زیر، جاهای خالی را پر کن. (۲ کلمه اضافه است)

هوای سالم - آرامی - حس بویایی - ۲۴ ساعت - دارند - حس چشایی - ندارند



- ما با کمک ..... می توانیم بوی گل ها را متوجه شویم.

- همه ی جانوران و گیاهان برای زنده ماندن به ..... نیاز دارند.

- زمین در هر ..... یک بار به دور خودش می چرخد.

- گرمی محل های سایه و آفتاب با هم تفاوت.....

- تغییر دمای آب به ..... اتفاق می افتد.

۳- پاسخ درست را علامت بزن.

- از گردش زمین به دور ..... فصل ها به وجود می آید.

- (۱) خورشید   
  (۲) خودش   
  (۳) ماه   
  (۴) خودش و ماه

- در زمان های گذشته برای تعیین زمان با استفاده از سایه، از کدام ساعت استفاده می کردند؟

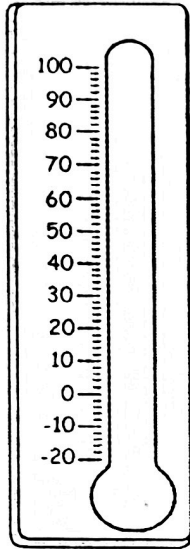
- (۱) ساعت شنی   
  (۲) ساعت آبی   
  (۳) ساعت دیجیتالی   
  (۴) ساعت آفتابی

- وسیله ی مقابل برای اندازه گیری..... استفاده می شود

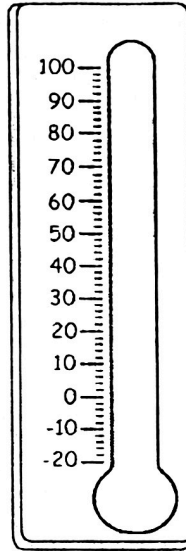


- (۱) دمای هوا   
  (۲) جهت باد   
  (۳) دمای آب   
  (۴) سرعت باد

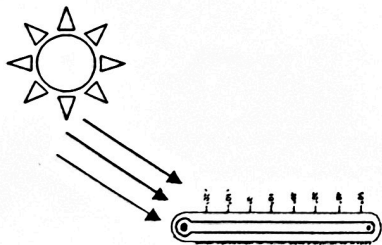
۴- دماهای خواسته شده را با مداد قرمز روی دماسنج نشان بده.



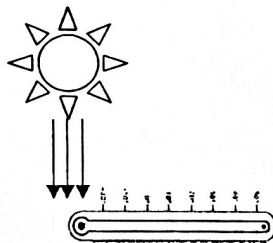
از زیر صفر  $^{\circ}\text{C}$



۴۰  $^{\circ}\text{C}$



۲



۱

۵- کدام دماسنج دمای بیشتری را نشان می دهد؟

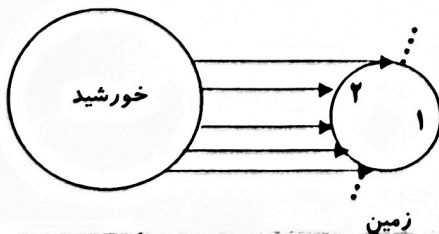
دلیل خود را توضیح دهید.

.....

.....

.....

۶- با توجه به شکل مردم کدام کشور مشغول استراحت در شب هستند؟



-----