

نام و نام خانوادگی:

پایه دوم

موضوع: درس سوم و چهارم علوم

هدف: تکرار و تمرین

آموزگار: خانم کاشانی

۱- وصل کنید.

- \* در هر ۲۴ ساعت، یک بار به دور خود می چرخد. \* روز و شب
- \* آن طرف از زمین که رو به خورشید است. \* فصل‌ها
- \* یک سال طول می کشد تا زمین به دور آن بچرخد. \* روز
- \* آن طرف از زمین که رو به خورشید نیست. \* شب
- \* با گردش زمین به دور خود به وجود می آید. \* زمین
- \* با گردش زمین به دور خورشید به وجود می آیند. \* خورشید

۲- جاهای خالی را پر کنید.

- \* جانداران برای زندگی به ..... و ..... خورشید نیاز دارند.
- \* گرمی محل‌های ..... و ..... با هم تفاوت دارد.
- \* برای اندازه‌گیری گرمی و سردی از ..... استفاده می کنیم.

۳- گزینه‌ی صحیح را انتخاب کنید.

- \* هنگام طلوع خورشید زمین ..... می شود و هنگام غروب خورشید زمین ..... می شود.
- الف) آرام آرام، گرم می شود. / آرام آرام، سرد می شود.
- ب) به طور ناگهانی، گرم می شود. / به طور ناگهانی، سرد می شود.
- ج) آرام آرام، گرم می شود. / به طور ناگهانی، سرد می شود.
- د) به طور ناگهانی، گرم می شود. / آرام آرام، سرد می شود.

\* در هوای گرم، مایع درون دماسنج ..... می رود و در هوای سرد، مایع درون دماسنج ..... می رود.

(د) پایین-پایین

(ج) پایین-بالا

(ب) بالا-پایین

(الف) بالا-بالا

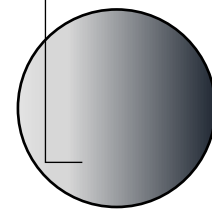


۴- روز و شب چگونه به وجود می آید؟

.....

۵- فصلها چگونه پدید می آیند؟

.....

۶- جاهای خالی را پر کنید.



کره ی زمین

۷- وصل کنید.

\* موج

\* فرفره

\* طوفان

\* بادنما

\* باد

\* به بادهای شدید می گویند.

\* وسیله ی نشاندهنده ی جهت وزرش باد

\* وسیله ی نشاندهنده ی سرعت باد

\* با جابه جایی هوای سرد و گرم به وجود می آید.

\* باد با وزش بر سطح آب و جابه جا کردن توده های از آب

آن را به وجود می آورد.

۸- جاهای خالی را پر کنید.

\* جهت وزش باد همیشه از محل ..... به محل ..... است.

\* باد با جابه‌جا کردن ماسه‌ها ..... را به وجود می‌آورد.

\* در تابستان نور خورشید به صورت ..... و در زمستان به صورت ..... می‌تابد.

\* باد دارای ..... و ..... است.

\* باد چهره‌ی ..... را تغییر می‌دهد.

\* زمین، ..... مختلفی دارد.

۹- گزینه‌ی صحیح را انتخاب کنید.

\* اگر نور خورشید به محلی به طور راست بتابد، آن محل ..... می‌شود. و اگر نور خورشید به محلی به طور مایل بتابد، آن محل ..... می‌شود.

الف) سرد- گرم      ب) گرم- سرد      ج) گرم- گرم      د) سرد- سرد

\* از روی جهت حرکت برگ‌ها یا از روی جهت حرکت پرچم، چه چیزی را می‌توان فهمید؟

الف) جهت باد      ب) سرعت باد      ج) موارد الف و ب      د) هیچکدام

۱۰- طوفان چه زیان‌هایی وارد می‌کند؟

.....  
.....

۱۱- چگونه تپه‌ای ماسه‌ای باعث خسارت می‌شوند؟

.....  
.....

۱۲- انسان از باد چه استفاده‌هایی می‌کند؟

.....

.....