




نام و نام خانوادگی:

تاریخ:


۱. با استفاده از تصاویر جاهای خالی را کامل کن.



الف) در یک روز برنا همراه دوستانش به باغ وحش رفتند. آن‌ها با حس خود طاووس زیبایی را دیدند.

ب) برنا با اجازه‌ی نگهبان آن‌جا بدن خرگوش را لمس کرد و با حس خود متوجه نرمی پوست بدن خرگوش شد. برنا با حس خود صدای آواز زیبای پرندگان را می‌شنید.

پ) برنا بعد از گردش در باغ یک آبمیوه خورد. او با حس متوجه مزه‌ی آن شد.



۲. درست یا نادرست بودن جمله‌ها را مشخص کن.

الف) برای مشاهده‌ی دقیق فقط باید خوب نگاه کنیم.

ب) بوی عطر را با حس بویایی متوجه می‌شویم.

پ) برای بیان دقیق مشاهدات باید آن‌ها را به خاطر بسپاریم.

۳. به عکس زیر خوب نگاه کن، سپس به سوالات پاسخ بده.



الف) چند گل در باغچه می‌بینی؟

ب) روی درخت چند پرنده نشسته است؟

پ) درنا و برنا در کدام سمت تصویر هستند؟

ت) ماهی‌های داخل رودخانه به چه رنگ‌هایی هستند؟

۴. هر جمله را با یکی از کلمات داخل کمانک کامل کن.

الف) برای یادداشت‌برداری به نیاز داریم. (حافظه‌ی قوی - دفتر و مداد)

ب) با حس بویایی می‌توانیم گل‌ها را تشخیص دهیم. (بوی - رنگ)

پ) سردی یخ را با حس متوجه می‌شویم. (لامسه - بویایی)





نام و نام خانوادگی:

تاریخ:

۵. وقتی برای گردش به جایی می‌روید، از کدام حواس استفاده می‌کنیم؟

- (۱) بینایی (۲) چشایی (۳) لامسه (۴) همه‌ی حواس

۶. یادداشت‌برداری به ما کمک می‌کند که

- (۱) نوشتن را تمرین کنیم.
 (۲) مشاهدات خود را دقیق‌تر بیان کنیم.
 (۳) بیش‌تر فکر کنیم.
 (۴) سرعت کارمان بیش‌تر شود.

نسخه آنلاین

جدول خودارزیابی



				معیار	ملاک
خیلی خوب	خوب	قابل قبول	نیاز به تلاش		
<input type="radio"/>	<input type="radio"/>	<input type="radio"/>	<input type="radio"/>	←	حواس پنج‌گانه را می‌شناسم.
<input type="radio"/>	<input type="radio"/>	<input type="radio"/>	<input type="radio"/>	←	مشاهدات خود را یادداشت می‌کنم.
<input type="radio"/>	<input type="radio"/>	<input type="radio"/>	<input type="radio"/>	←	از یادداشت‌برداری برای بیان مشاهدات خود استفاده می‌کنم.





تاریخ:

نام و نام خانوادگی:

نادرست



درست



۱. درست یا نادرست بودن جمله‌ها را مشخص کن.

(الف) انسان‌ها از آب برای آشامیدن، تفریح و شست‌وشو استفاده می‌کنند.

(ب) استفاده از ماشین شخصی در هوای آلوده ضروری است.

(پ) قطع درختان به حفظ محیط‌زیست جلاداران کمک می‌کند.

۲. کدام یک از کارهای زیر درست و کدام یک نادرست است؟ در جای خود بنویس.

باز گذاشتن شیر آب - سفت کردن شیر آب - مسواک زدن با یک لیوان آب - شستن ماشین با شلنگ آب

نادرست	درست
.....
.....
.....

۳. در هر تصویر درنا و برنا با انجام چه کاری سعی می‌کنند تا به حفظ محیط‌زیست کمک کنند؟



(الف)



(ب)





تاریخ:

نام و نام خانوادگی:

۴. کدام تصویر استفاده درست از آب را نشان می‌دهد؟ (دور آن خط بکش).



۵. در تصویر زیر کدام جانداران به دلیل آلودگی آب و هوا آسیب می‌بینند؟ نام آن‌ها را بنویس.

..... ۱

..... ۲

..... ۳

۶. آب در کجا قبل آشامیدن می‌شود؟

- (۱) رودخانه (۲) چاه (۳) تصفیه‌خانه (۴) کارخانه

۷. در کدام گزینه، هر دو رفتار باعث افزایش آلودگی هوا می‌شود؟

- (۱) کاشتن درخت - استفاده از خودروی شخصی
- (۲) کاشتن درخت - استفاده از وسایل نقلیه عمومی
- (۳) قطع کردن درختان - استفاده از دوچرخه
- (۴) قطع کردن درختان - استفاده از خودروی شخصی

جدول خودارزیابی



معیار	خیلی خوب	خوب	قابل قبول	نیاز به تلاش	ملاک
استفاده انسان از آب را می‌دانم.	<input type="radio"/>	<input type="radio"/>	<input type="radio"/>	<input type="radio"/>	←
راه‌های آلودگی هوا و آب را می‌دانم.	<input type="radio"/>	<input type="radio"/>	<input type="radio"/>	<input type="radio"/>	←
راه‌های حفظ محیط زیست را بیان می‌کنم.	<input type="radio"/>	<input type="radio"/>	<input type="radio"/>	<input type="radio"/>	←
استفاده درست از آب را نشان می‌دهم.	<input type="radio"/>	<input type="radio"/>	<input type="radio"/>	<input type="radio"/>	←



نام و نام خانوادگی:

تاریخ:

سایه ظهر
بالاتر نور
۲۴ ساعت

۱. با توجه به کلمات داخل جدول، کلمه مناسب را در جای خالی بنویس.

(الف) زمین در هر یکبار به دور خود می‌چرخد.

(ب) گرم‌ترین زمان در طول روز است.

(پ) هرچه دماسنج گرم‌تر شود، مایع داخل آن است.

(ت) خورشید با گرما و خود زمین را گرم نگه می‌دارد.

(ث) دمای هوا در آفتاب بیشتر از است.

۲. عبارتهای مربوط به هم را به یکدیگر وصل کن.

با دماسنج اندازه‌گیری می‌شود. ☹️

شب کار می‌کند. ☹️

روز کار می‌کند. ☹️

به نور خورشید نیاز دارد. ☹️

پلیس ☹️

رشد گیاه ☹️

سردی و گرمی ☹️

معلم ☹️

۳. کدام یک از افراد زیر، شب‌ها هم کار می‌کنند؟ علامت (X) بزن





تاریخ:

نام و نام خانوادگی:

۴. با توجه به شکل، مردم کدام کشور خواب هستند؟ (روز و شب را روی کره‌ی زمین مشخص کن.)



۵. از گردش کدام یک از موارد زیر به دور خود روز و شب به وجود می‌آید؟



(۴)



(۳)



(۲)



(۱)

۶. کدام یک از جانوران زیر شب‌ها فعالیت دارد؟



(۴)



(۳)



(۲)



(۱)

جدول خودارزیابی

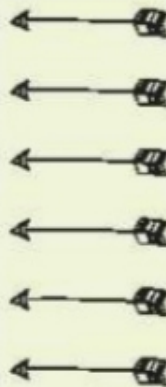


خیلی خوب خوب قابل قبول نیاز به تلاش

معیار

ملاک

<input type="radio"/>	<input type="radio"/>	<input type="radio"/>	<input type="radio"/>
<input type="radio"/>	<input type="radio"/>	<input type="radio"/>	<input type="radio"/>
<input type="radio"/>	<input type="radio"/>	<input type="radio"/>	<input type="radio"/>
<input type="radio"/>	<input type="radio"/>	<input type="radio"/>	<input type="radio"/>
<input type="radio"/>	<input type="radio"/>	<input type="radio"/>	<input type="radio"/>
<input type="radio"/>	<input type="radio"/>	<input type="radio"/>	<input type="radio"/>



- ◀ نحوه‌ی ایجاد شب و روز را می‌دانم.
- ◀ تغییرات نماز در شب و روز می‌دانم.
- ◀ با وسیله‌ی اندازه‌گیری نماز نحوه‌ی کل آن آشنا هستم.
- ◀ شغل‌هایی که در شب فعالیت می‌کنند را می‌شناسم.
- ◀ شب و روز را با توجه به تابش خورشید نشان می‌دهم.
- ◀ جانورانی که در شب فعالیت می‌کنند را می‌شناسم.