

نام و نام خانوادگی:

آموزگار: خانم کاشانی

موضوع:

پایه:

تاریخ:

هدف:



۱- وصل کنید.

- \* در هر ۲۴ ساعت، یک بار به دور خود می چرخد. \* روز و شب
- \* آن طرف از زمین که رو به خورشید است. \* فصلها
- \* یک سال طول می کشد تا زمین به دور آن بچرخد. \* روز
- \* آن طرف از زمین که رو به خورشید نیست. \* شب
- \* با گردش زمین به دور خود به وجود می آید. \* زمین
- \* با گردش زمین به دور خورشید به وجود می آیند. \* خورشید

۲- جاهای خالی را پر کنید.

- \* جانداران برای زندگی به ..... و ..... خورشید نیاز دارند.
- \* گرمی محل های ..... و ..... با هم تفاوت دارد.
- \* برای اندازه گیری گرمی و سردی از ..... استفاده می کنیم.

۳- گزینه ی صحیح را انتخاب کنید.

- \* هنگام طلوع خورشید زمین ..... می شود و هنگام غروب خورشید زمین .....
- ..... می شود.

الف) آرام آرام، گرم می شود. / آرام آرام، سرد می شود.

ب) به طور ناگهانی، گرم می شود. / به طور ناگهانی، سرد می شود.

ج) آرام آرام، گرم می شود. / به طور ناگهانی، سرد می شود.



(د) به طور ناگهانی، گرم می‌شود. / آرام آرام، سرد می‌شود.

\* در هوای گرم، مایع درون دماسنج ..... می‌رود و در هوای سرد، مایع درون دماسنج ..... می‌رود.

الف) بالا - بالا  
پایین - پایین  
ب) بالا - پایین  
ج) پایین - بالا  
د)

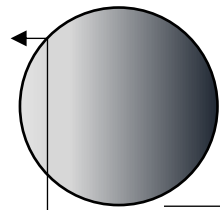


۴- روز و شب چگونه به وجود می‌آید؟

.....  
.....

۵- فصل‌ها چگونه پدید می‌آیند؟

.....  
.....

۶- جاهای خالی را پر کنید.



کره‌ی زمین

